



垂直、平行と  
四角形 6

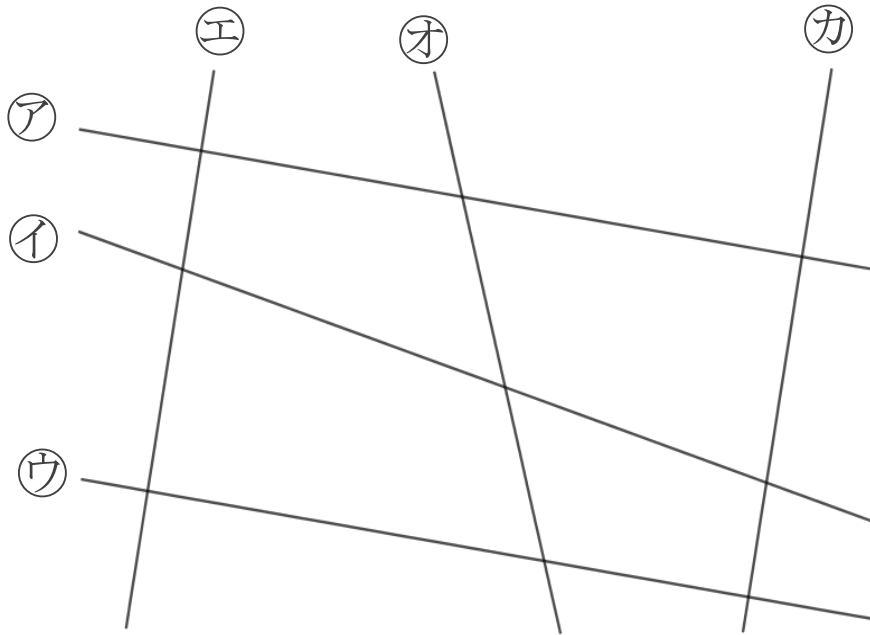
10

● 平行な直線探し

日にち：      月      日

名まえ \_\_\_\_\_

1 次の図で、平行な直線は、どれとどれですか。



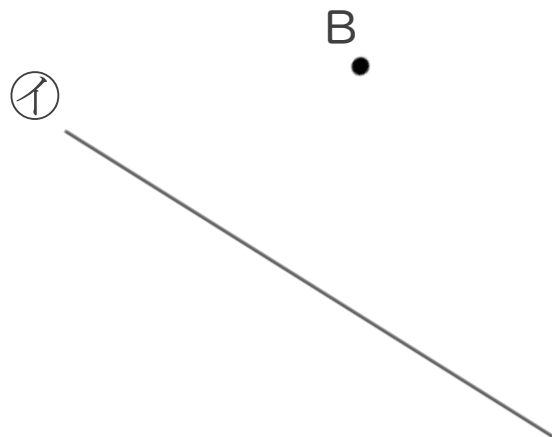
答え： \_\_\_\_\_

2 2まいの三角じょうぎを使って、次の点を通り、直線に垂直な直線をひきましょう。

①



②





# 垂直, 平行と 四角形 6

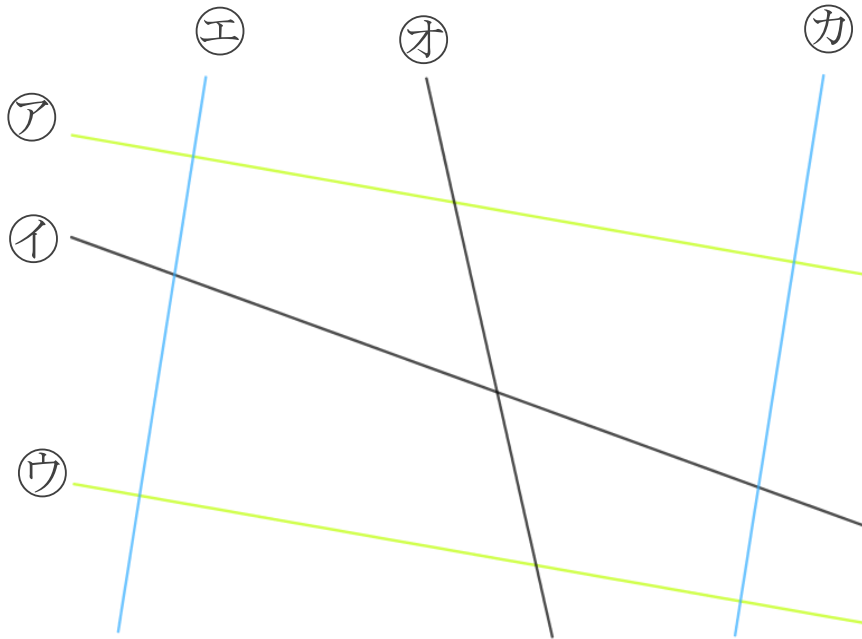
# 10

● 平行な直線探し

日にち：        月        日

名まえ \_\_\_\_\_

1 次の図で、平行な直線は、どれとどれですか。



答え： (ア)と(ウ) , (エ)と(カ)

2 2まいの三角じょうぎを使って、次の点を通り、直線に垂直な直線をひきましょう。

