



# 小数の表し方5

◎ 数直線の読みとり



日にち：          月          日

名まえ \_\_\_\_\_

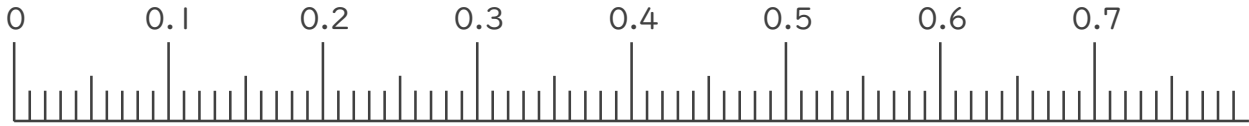
1. 次の小数を表すめもりに ↑ を書きましょう。

① 0.01

② 0.15

③ 0.25

④ 0.56

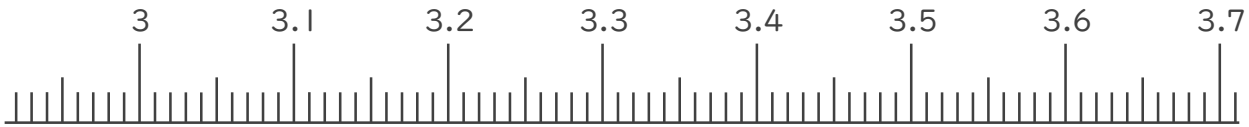


⑤ 3.01

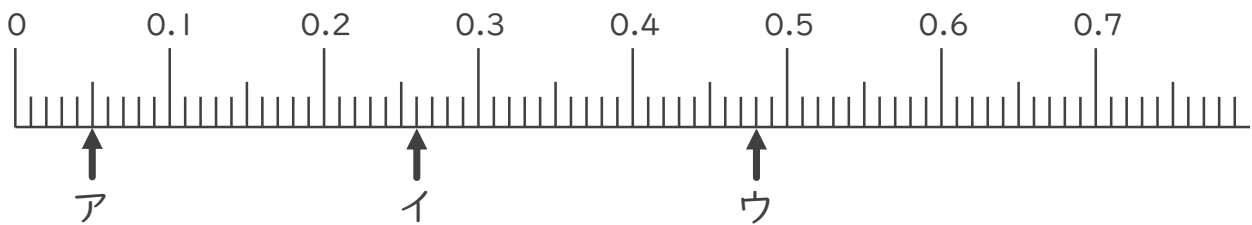
⑥ 3.05

⑦ 3.46

⑧ 3.64



2. 次の数直線でア～オが表す数を答えましょう。



ア

イ

ウ

\_\_\_\_\_

\_\_\_\_\_

\_\_\_\_\_





# 小数の表し方5

⑨ 数直線の読みとり



日にち：        月        日

名まえ \_\_\_\_\_

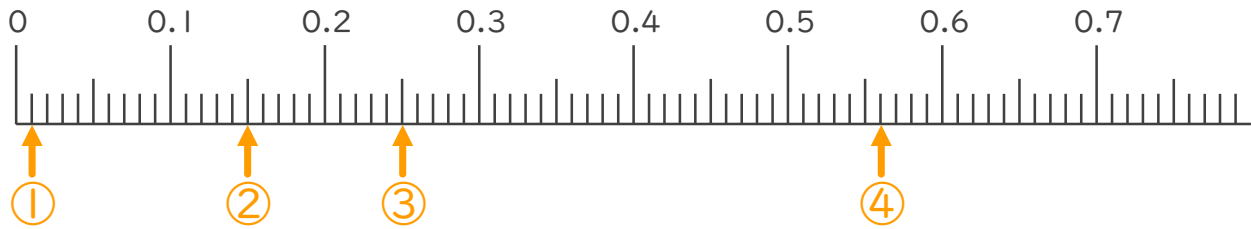
1. 次の小数を表すめもりに ↑ を書きましょう。

① 0.01

② 0.15

③ 0.25

④ 0.56

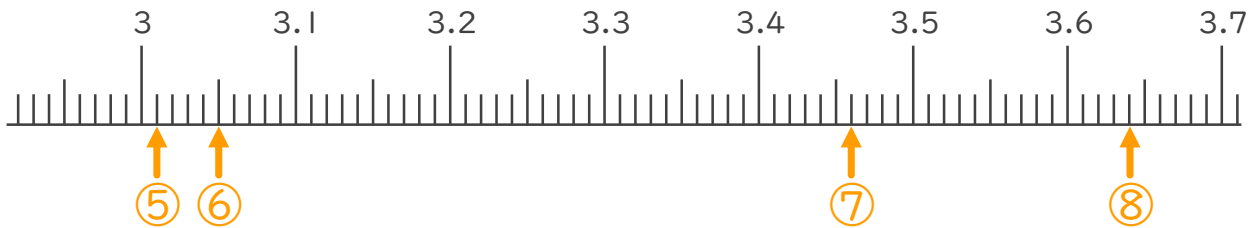


⑤ 3.01

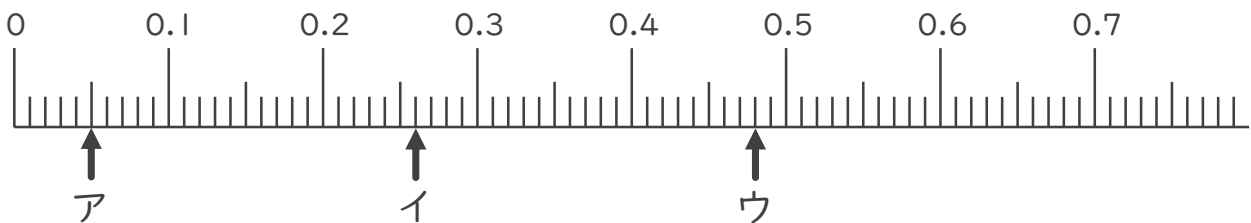
⑥ 3.05

⑦ 3.46

⑧ 3.64



2. 次の数直線でア～オが表す数を答えましょう。



ア 0.05

イ 0.26

ウ 0.48

