



# 角の大きさ 10

● 時計回りの角の作図





日にち：            月            日

名まえ \_\_\_\_\_

・ 点アを頂点として、次の大きさの角をかきましょう。

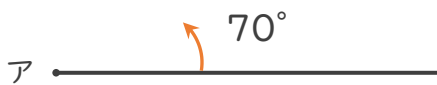
①  $50^\circ$

②  $90^\circ$



③  $70^\circ$

④  $110^\circ$





# 角の大きさ 11

● 時計回りの角の作図



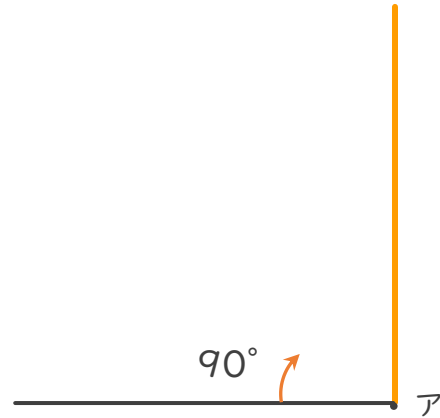
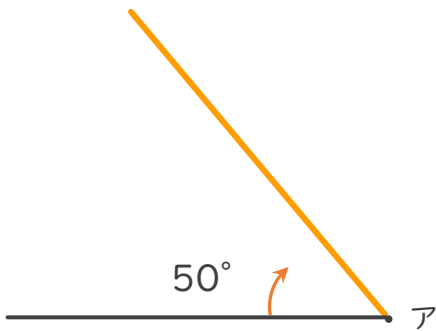
日にち：            月            日

名まえ \_\_\_\_\_

・ 点アを頂点として、次の大きさの角をかきましょう。

①  $50^\circ$

②  $90^\circ$



③  $70^\circ$

④  $110^\circ$

