

# 分数 (分数の表し方) 2

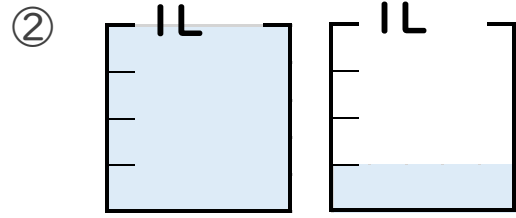
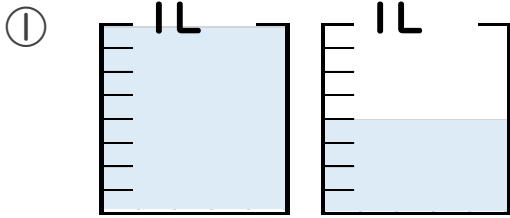
● 水のかさを帯分数と仮分数で表す



日にち：            月            日

名まえ \_\_\_\_\_

1 水のかさは何Lですか。仮分数と帯分数の両方で表しましょう。



答え    仮分数…

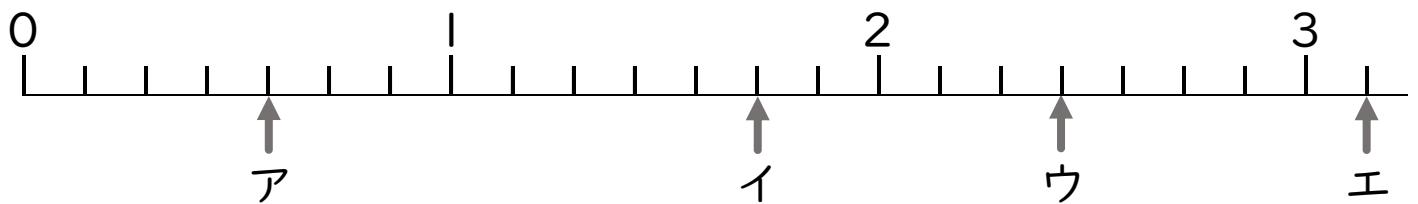
答え    仮分数…

帯分数…

帯分数…

2 ア～オのめもりが表す分数はいくつですか。

1より大きい分数は、仮分数と帯分数の両方で表しましょう。




答え    ア

イ

ウ

エ



# 分数 (分数の表し方) 2

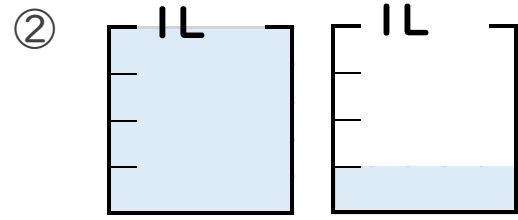
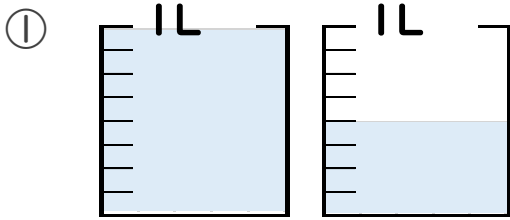
水の量を帯分数と仮分数で表す



日にち： 月 日

名まえ

1 水のかさは何Lですか。仮分数と帯分数の両方で表しましょう。



答え 仮分数...  $\frac{12}{8}$  L

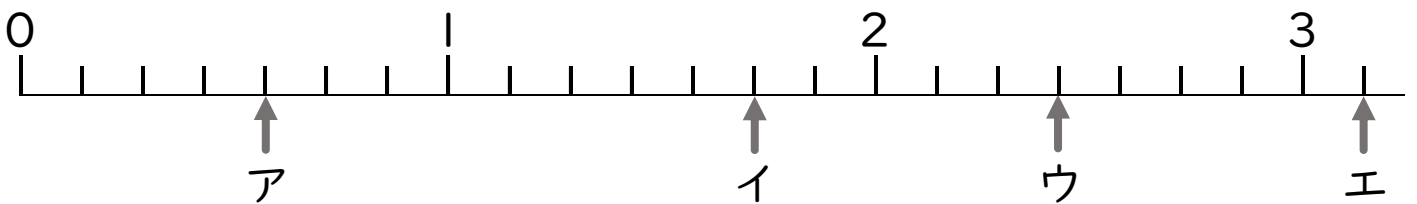
答え 仮分数...  $\frac{5}{4}$  L

帯分数...  $1\frac{4}{8}$  L

帯分数...  $1\frac{1}{4}$  L

2 ア～オのめもりが表す分数はいくつですか。

1より大きい分数は、仮分数と帯分数の両方で表しましょう。



答え ア  $\frac{4}{7}$

イ  $\frac{12}{7}$  ,  $1\frac{5}{7}$

ウ  $\frac{17}{7}$  ,  $2\frac{3}{7}$

エ  $\frac{22}{7}$  ,  $3\frac{1}{7}$