

分数 (分数の表し方) ⑩

● 真分数・帯分数・仮分数とは



日にち： 月 日

名まえ _____

1 次の分数は、真分数、仮分数、帯分数のどれですか。

① $\frac{3}{2}$

② $\frac{12}{5}$

③ $2\frac{6}{9}$

④ $1\frac{6}{10}$

⑤ $\frac{7}{9}$

⑥ $\frac{4}{4}$

答え： ①

②

③

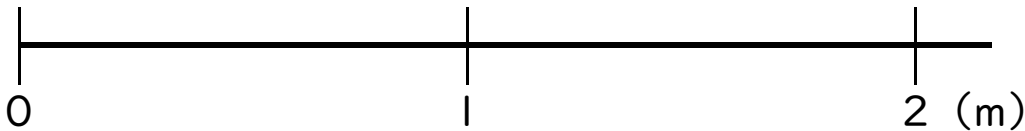
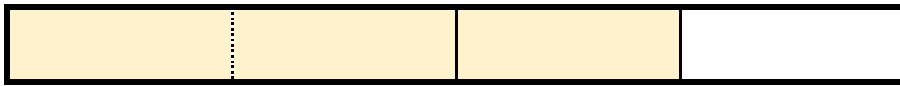
④

⑤

⑥

2 色をぬった部分の長さを、仮分数と帯分数の両方で表しましょう

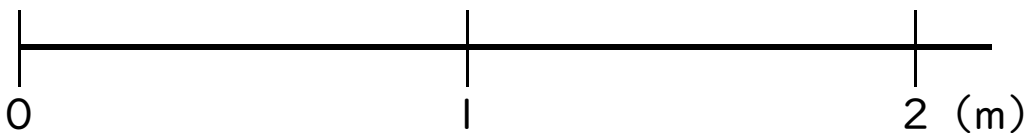
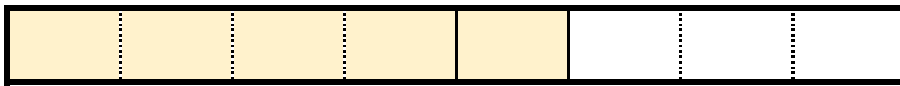
①



答え： 仮分数…

帯分数…

②



答え： 仮分数…

帯分数…



分数 (分数の表し方) ⑩

真分数・帯分数・仮分数とは



日にち： 月 日

名まえ

1 次の分数は、真分数、仮分数、帯分数のどれですか。

① $\frac{3}{2}$

② $\frac{12}{5}$

③ $2\frac{6}{9}$

④ $1\frac{6}{10}$

⑤ $\frac{7}{9}$

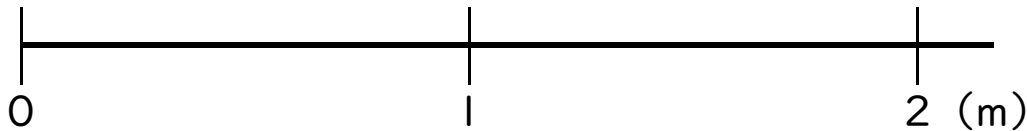
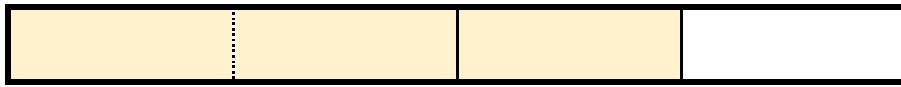
⑥ $\frac{4}{4}$

答え： ① 仮分数 ② 仮分数 ③ 帯分数

④ 帯分数 ⑤ 真分数 ⑥ 仮分数

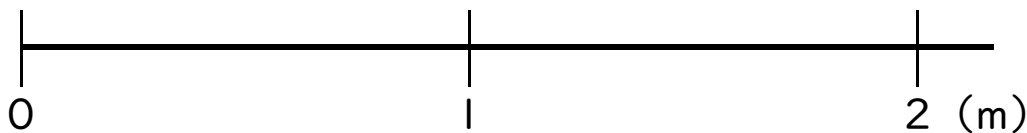
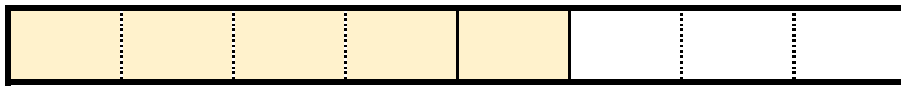
2 色をぬった部分の長さを、仮分数と帯分数の両方で表しましょう

①



答え： 仮分数… $\frac{3}{2}$ 帯分数… $1\frac{1}{2}$

②



答え： 仮分数… $\frac{5}{4}$ 帯分数… $1\frac{1}{4}$

