



小数の表し方3

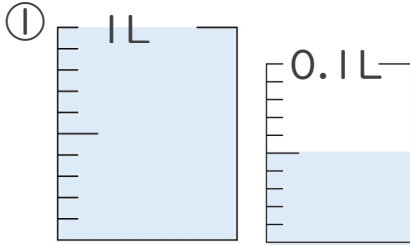
◎ 0.01を何こ？



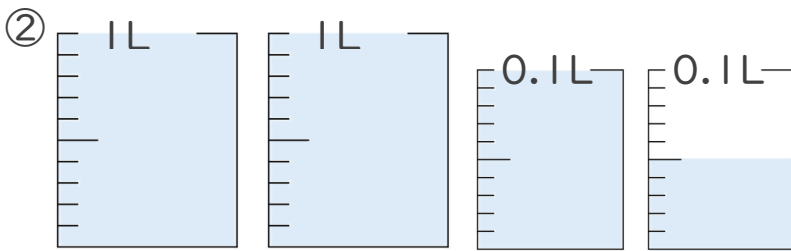
日にち： 月 日

名まえ _____

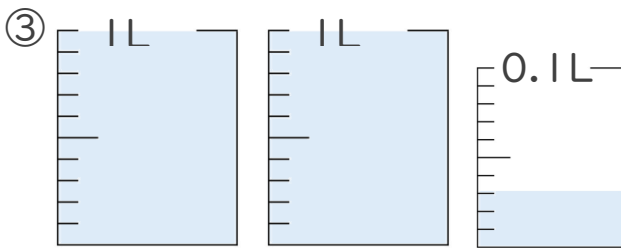
1. 1L入る水さしと、0.1L入る水さしがあります。
水さしに入っている水のかさを、L単位で表しましょう。



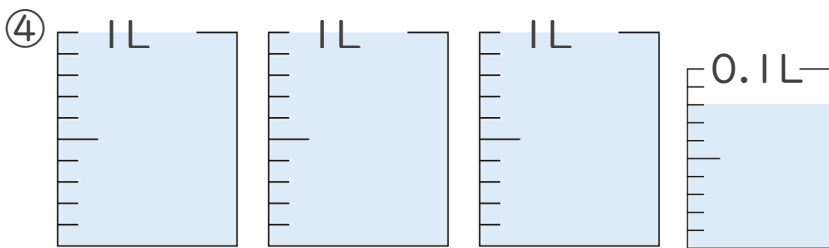
答え _____



答え _____



答え _____



答え _____

2. 次の問いに答えましょう。

① 0.12 L は 0.01 L を何こ集めたかさですか？

答え _____

② 0.2 L は 0.01 L を何こ集めたかさですか？

答え _____





小数の表し方3

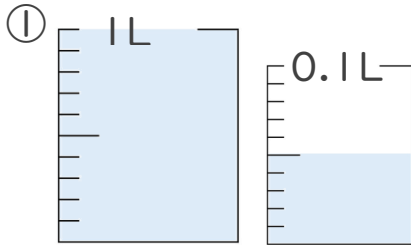
◎ 0.01を何こ？



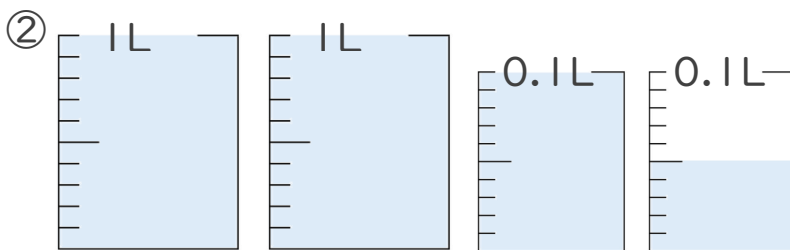
日にち： 月 日

名まえ _____

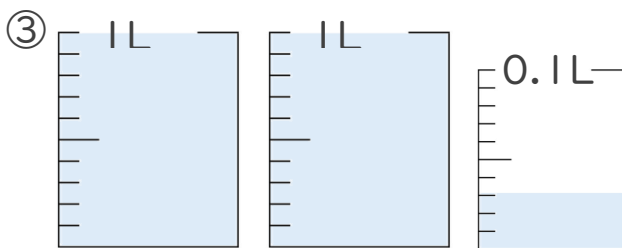
1. 1L入る水さしと、0.1L入る水さしがあります。
水さしに入っている水のかさを、L単位で表しましょう。



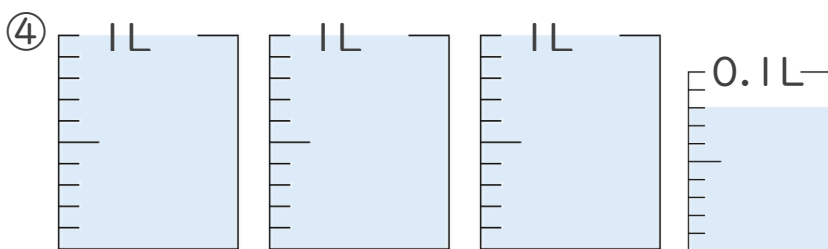
答え 1.05L



答え 2.15L



答え 2.03L



答え 3.08L

2. 次の問いに答えましょう。

① 0.12Lは0.01Lを何こ集めたかさですか？

答え 12こ

② 0.2Lは0.01Lを何こ集めたかさですか？

答え 20こ

