



小数のしくみ7

◎ 6より0.03小さい数



日にち： 月 日

名まえ

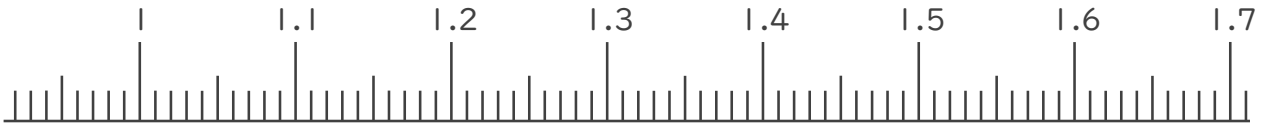
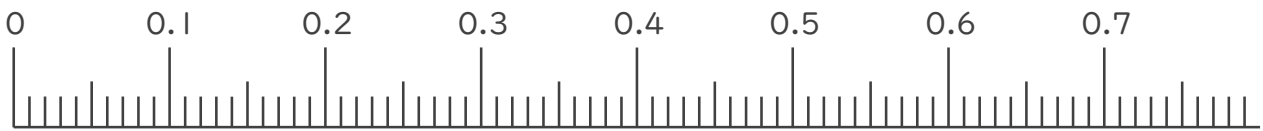
1. 下の数直線で、ア～エの数を表すめもりに ↑ をかきましょう。
また、 ↑ の下にア～エの記号とその数をかきましょう。

ア 0.1より0.02小さい数

イ 0.3より0.01大きい数

ウ 1より0.05小さい数

エ 1.4より0.03大きい数



2. 次の数はいくつですか。

① 3と0.24をあわせた数

答え

② 1を5こ、0.1を2こ、0.01を1こあわせた数

答え

③ 0.01を15こ集めた数

答え





小数のしくみ7

◎ 6より0.03小さい数



日にち： 月 日

名まえ

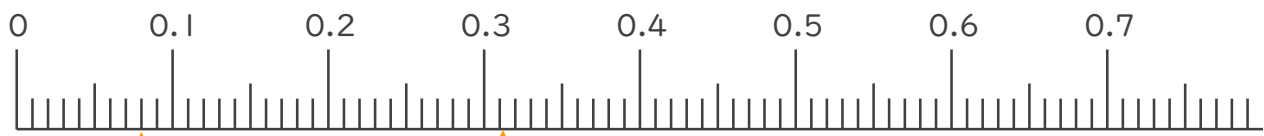
1. 下の数直線で、ア～エの数を表すめもりに ↑ をかきましょう。
また、 ↑ の下にア～エの記号とその数をかきましょう。

ア 0.1より0.02小さい数

イ 0.3より0.01大きい数

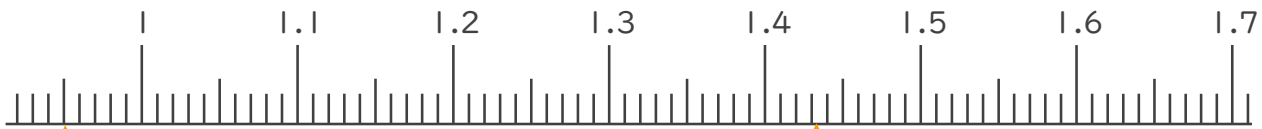
ウ 1より0.05小さい数

エ 1.4より0.03大きい数



ア 0.08

イ 0.31



ウ 0.95

エ 1.43

2. 次の数はいくつですか。

① 3と0.24をあわせた数

答え 3.24

② 1を5こ、0.1を2こ、0.01を1こあわせた数

答え 5.21

③ 0.01を15こ集めた数

答え 0.15

