



角の大きさ 9

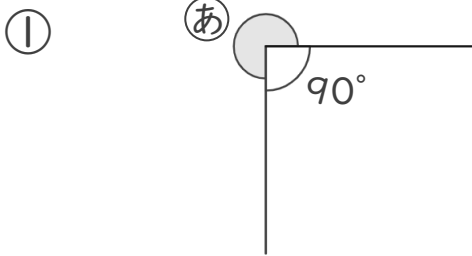
● 360° から
引いて求める角度



日にち： 月 日

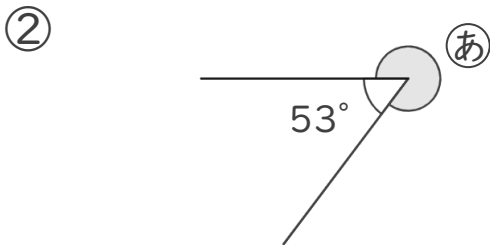
名まえ _____

・ ① の角度を、計算で求めましょう。



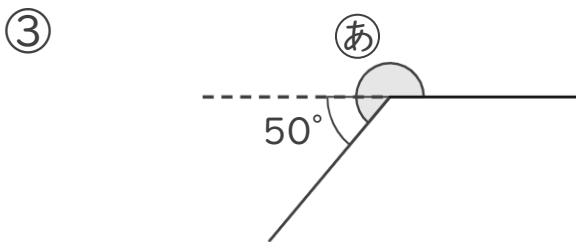
式：

答え（ ）



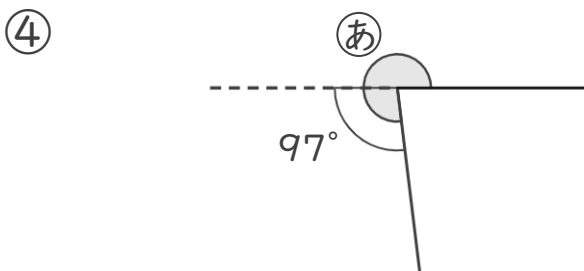
式：

答え（ ）



式：

答え（ ）



式：

答え（ ）





角の大きさ 9

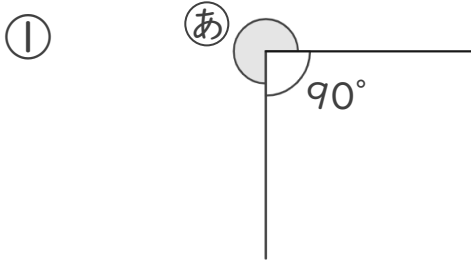
● 360° から
引いて求める角度



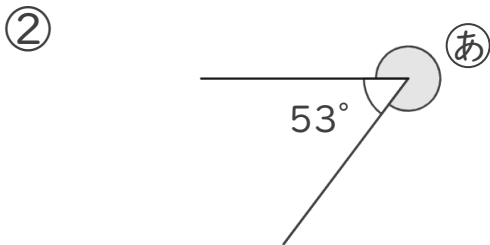
日にち： 月 日

名まえ _____

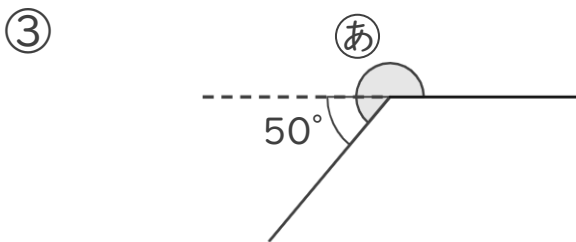
・ ①の角度を、計算で求めましょう。



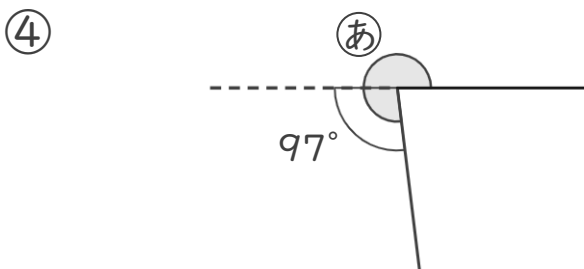
式： $360^\circ - 90^\circ = 270^\circ$ 答え (270°)



式： $360^\circ - 53^\circ = 307^\circ$ 答え (307°)



式： $180^\circ + 50^\circ = 230^\circ$ 答え (230°)



式： $180^\circ + 97^\circ = 277^\circ$ 答え (277°)

