



倍の見方3

● 5倍で75mの
もとの長さ

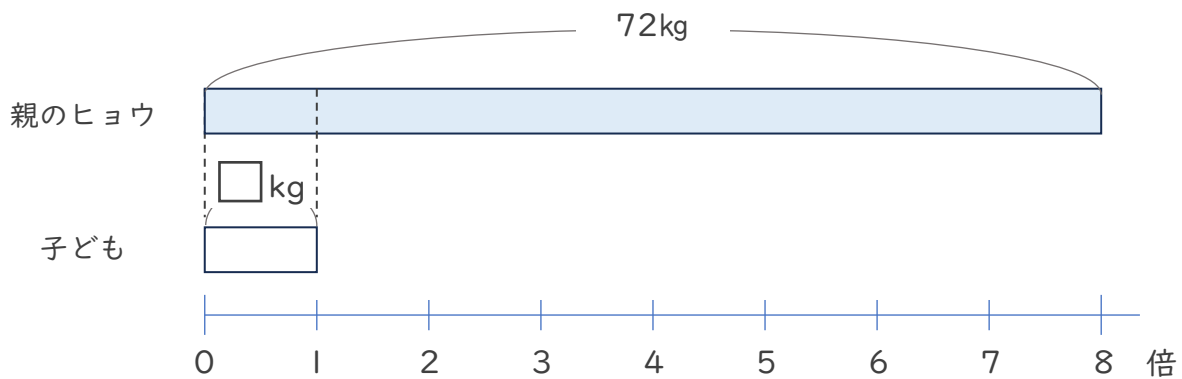


日にち： 月 日

名まえ _____

・ 次の問いに答えましょう。

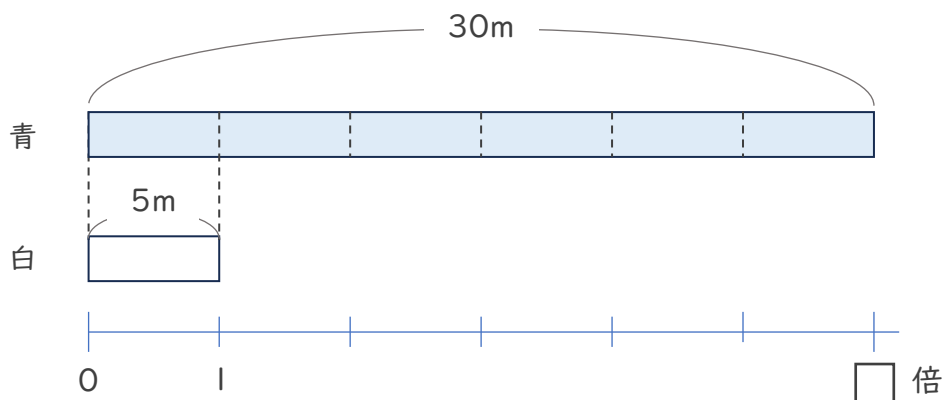
- ① 親のヒョウの体重は子どもの体重の8倍で、72kgです。子どものヒョウの体重は何kgですか。



式：

答え ()

- ② 白のリボンの長さは5mで、青のリボンの長さは30mです。青のリボンは白のリボンの何倍の長さですか。



式：

答え ()



倍の見方3

● 5倍で75mの
もとの長さ

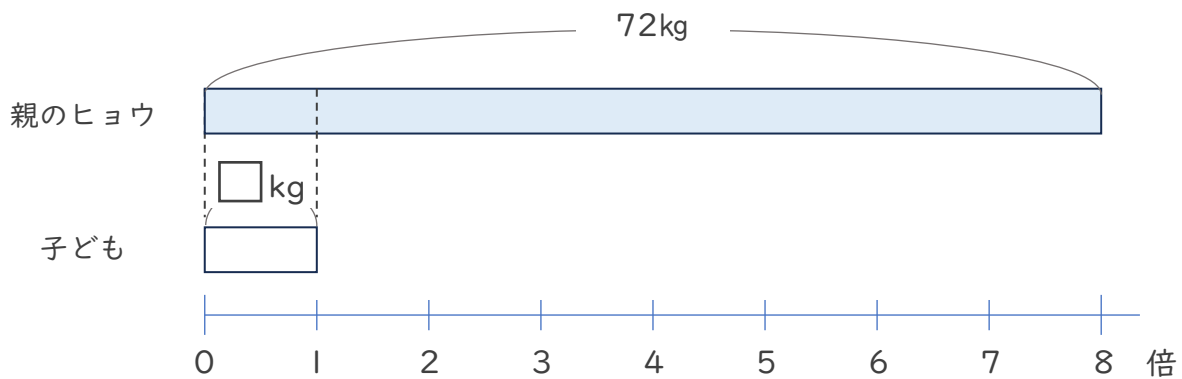


日にち： 月 日

名まえ _____

・ 次の問いに答えましょう。

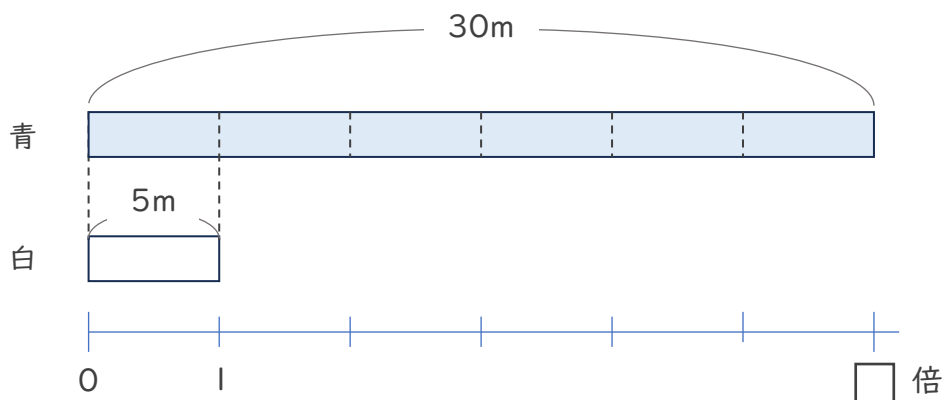
- ① 親のヒョウの体重は子どもの体重の8倍で、72kgです。子どものヒョウの体重は何kgですか。



式： $72 \div 8 = 9$

答え (9 kg)

- ② 白のリボンの長さは5mで、青のリボンの長さは30mです。青のリボンは白のリボンの何倍の長さですか。



式： $30 \div 5 = 6$

答え (6 倍)

