



面積の はかり方と表し方 3

◎ マス目で数える三角形の面積

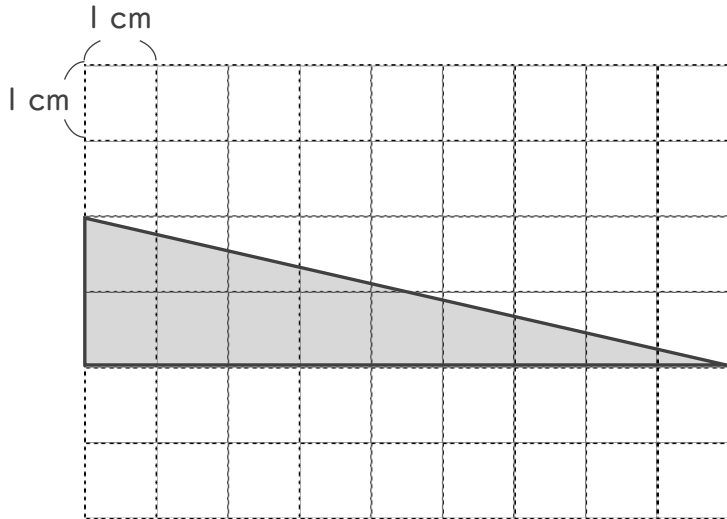


日にち： 月 日

名まえ _____

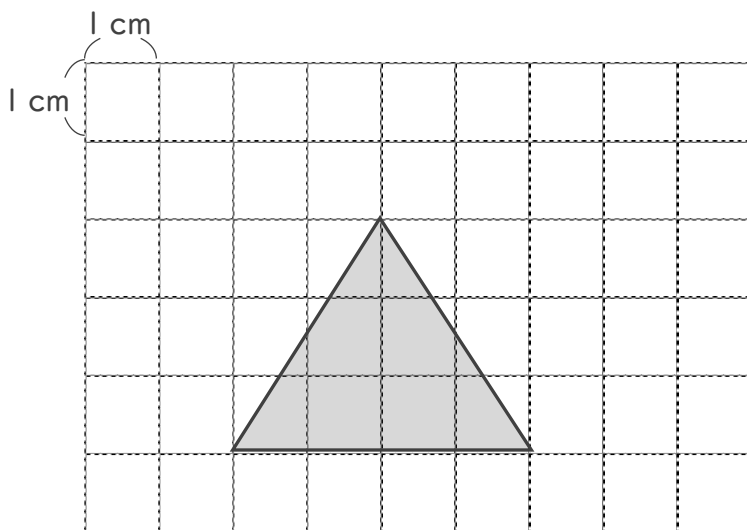
・ 次の図形は 1 マスが 1 cm^2 です。次の図形の面積を求めなさい。

①



答え： _____

②



答え： _____



面積の
はかり方と表し方 3

◎ マス目で数える三角形の面積

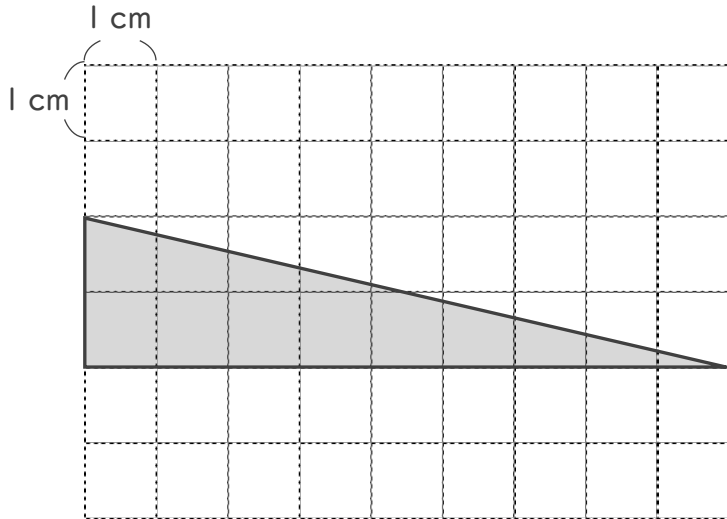


日にち： 月 日

名まえ _____

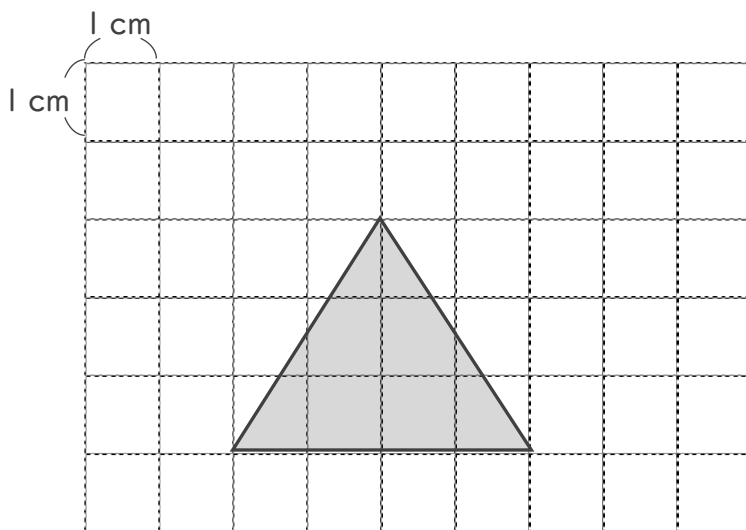
・ 次の図形は 1 マスが 1 cm^2 です。次の図形の面積を求めなさい。

①



答え： 9 cm^2

②



答え： 6 cm^2