



# 分数 (分数の表し方) 5

◎ 仮分数を帯分数や整数になおす



日にち：            月            日

名まえ \_\_\_\_\_

1 次の仮分数を、帯分数か整数になおしましょう

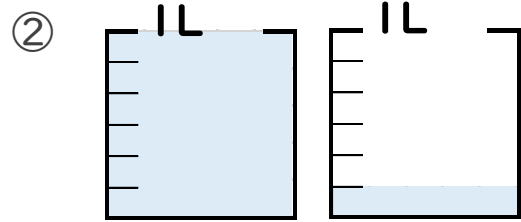
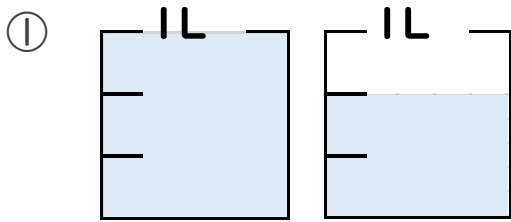
①  $\frac{9}{2} =$

③  $\frac{11}{3} =$

②  $\frac{24}{4} =$

④  $\frac{8}{7} =$

2 水のかさは何Lですか。仮分数と帯分数の両方で表しましょう。



答え    仮分数…

答え    仮分数…

帯分数…

帯分数…

\_\_\_\_\_

\_\_\_\_\_



# 分数 (分数の表し方) 5

◎ 仮分数を帯分数や整数になおす



日にち：            月            日

名まえ \_\_\_\_\_

1 次の仮分数を、帯分数か整数になおしましょう

$$\textcircled{1} \quad \frac{9}{2} = 4\frac{1}{2}$$

$$9 \div 2 = 4 \text{ あまり } 1$$

$$\textcircled{2} \quad \frac{24}{4} = 6$$

$$24 \div 4 = 6$$

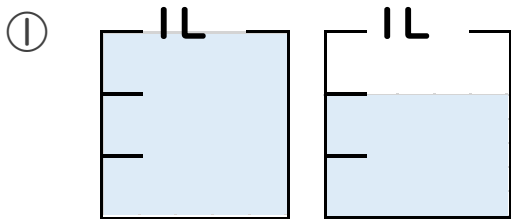
$$\textcircled{3} \quad \frac{11}{3} = 3\frac{2}{3}$$

$$11 \div 3 = 3 \text{ あまり } 2$$

$$\textcircled{4} \quad \frac{8}{7} = 1\frac{1}{7}$$

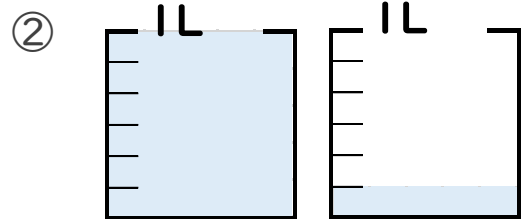
$$8 \div 7 = 1 \text{ あまり } 1$$

2 水のかさは何Lですか。仮分数と帯分数の両方で表しましょう。



答え 仮分数...  $\frac{5}{3}$  L

帯分数...  $1\frac{2}{3}$  L



答え 仮分数...  $\frac{7}{6}$  L

帯分数...  $1\frac{1}{6}$  L