



小数のたし算とひき算 I

◎ 位のそろった小数のたし算



日にち： 月 日


名まえ _____

・ 次の計算をしなさい。


① $8.58 + 0.53$




② $5.237 + 2.248$



③ $1.54 + 4.79$



④ $3.746 + 4.806$



⑤ $1.357 + 1.841$




⑥ $3.23 + 5.35$



⑦ $4.038 + 1.688$



⑧ $5.57 + 2.32$





小数のたし算とひき算 I

◎ 位のそろった小数のたし算



日にち： 月 日

名まえ _____

・ 次の計算をしなさい。

① $8.58 + 0.53$

	8	5	8
+	0	5	3
<hr/>			
	9	1	1

② $5.237 + 2.248$

	5	2	3	7
+	2	2	4	8
<hr/>				
	7	4	8	5

③ $1.54 + 4.79$

	1	5	4
+	4	7	9
<hr/>			
	6	3	3

④ $3.746 + 4.806$

	3	7	4	6
+	4	8	0	6
<hr/>				
	8	5	5	2

⑤ $1.357 + 1.841$

	1	3	5	7
+	1	8	4	1
<hr/>				
	3	1	9	8

⑥ $3.23 + 5.35$

	3	2	3
+	5	3	5
<hr/>			
	8	5	8

⑦ $4.038 + 1.688$

	4	0	3	8
+	1	6	8	8
<hr/>				
	5	7	2	6

⑧ $5.57 + 2.32$

	5	5	7
+	2	3	2
<hr/>			
	7	8	9

⑪ 仕上げ 答え



すらすらぷりんと