



# 小数のたし算とひき算 I

◎ 位のそろった小数のたし算




日にち：            月            日


名まえ \_\_\_\_\_

・ 次の計算をしなさい。


①  $8.58 + 0.53$




②  $5.237 + 2.248$




③  $1.54 + 4.79$




④  $3.746 + 4.806$




⑤  $1.357 + 1.841$




⑥  $3.23 + 5.35$



⑦  $4.038 + 1.688$



⑧  $5.57 + 2.32$





# 小数のたし算とひき算 I

◎ 位のそろった小数のたし算



日にち：            月            日

名まえ \_\_\_\_\_

・ 次の計算をしなさい。

①  $8.58 + 0.53$

	8	5	8
+	0	5	3
<hr/>			
	9	1	1

②  $5.237 + 2.248$

	5	2	3	7
+	2	2	4	8
<hr/>				
	7	4	8	5

③  $1.54 + 4.79$

	1	5	4
+	4	7	9
<hr/>			
	6	3	3

④  $3.746 + 4.806$

	3	7	4	6
+	4	8	0	6
<hr/>				
	8	5	5	2

⑤  $1.357 + 1.841$

	1	3	5	7
+	1	8	4	1
<hr/>				
	3	1	9	8

⑥  $3.23 + 5.35$

	3	2	3
+	5	3	5
<hr/>			
	8	5	8

⑦  $4.038 + 1.688$

	4	0	3	8
+	1	6	8	8
<hr/>				
	5	7	2	6

⑧  $5.57 + 2.32$

	5	5	7
+	2	3	2
<hr/>			
	7	8	9

⑪ 仕上げ 答え



すらすらぷりんと