



垂直、平行と四角形 12

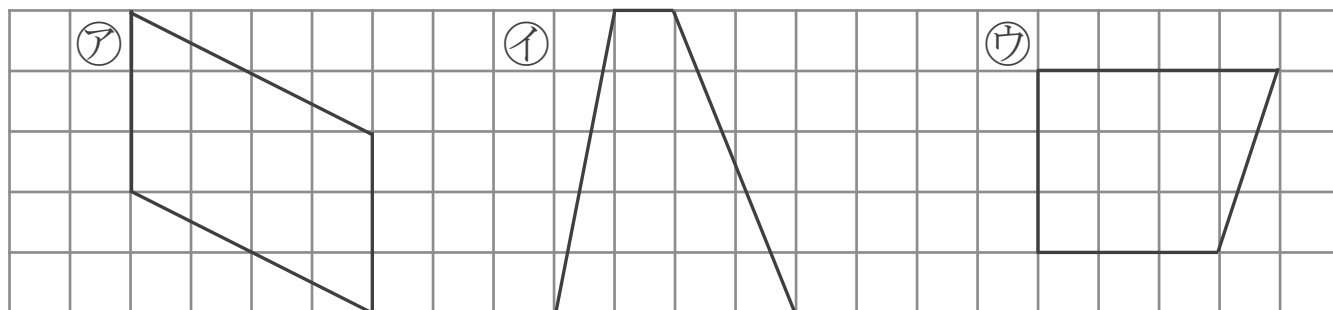
● 台形と平行四辺形



日にち： 月 日

名まえ _____

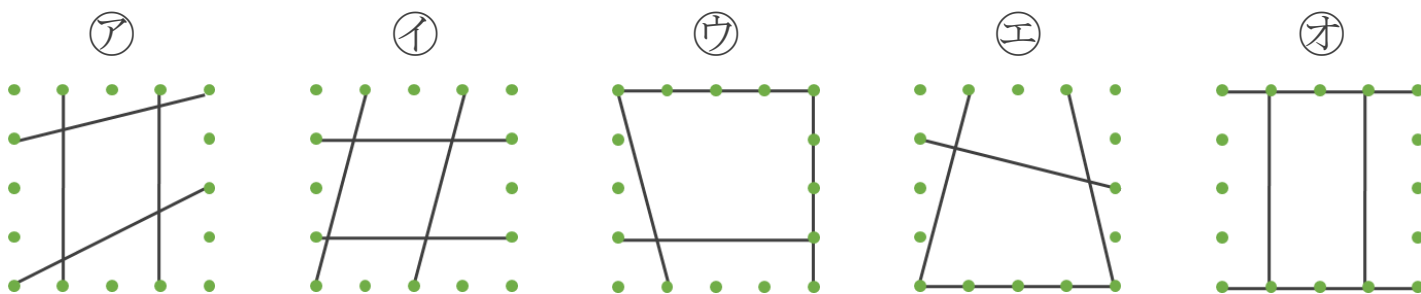
1 次の四角形を、台形と平行四辺形に分けましょう。



答え： 台形…

_____ 平行四辺形…

2 平行な直線の組の数に注目して、次の四角形を3つのなかまに分けましょう。



① 平行な直線が1組

答え： _____

② 平行な直線が2組

答え： _____

③ 平行な直線がない

答え： _____



垂直、平行と四角形 12

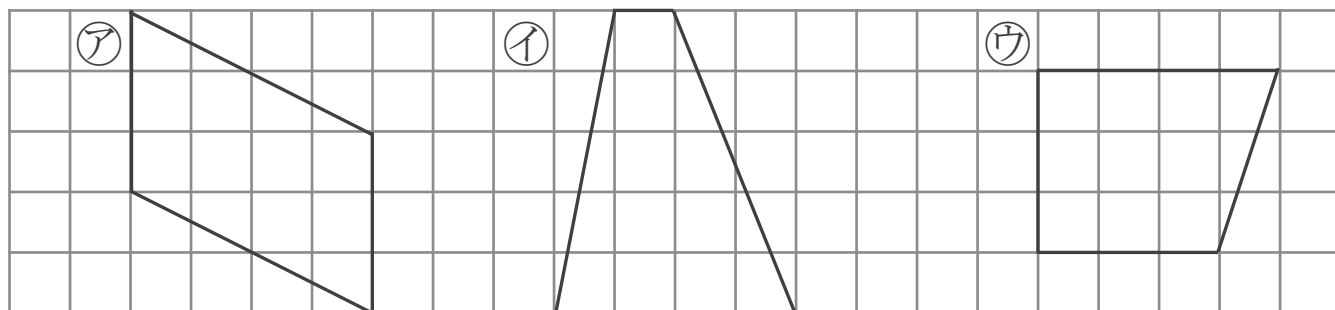
台形と平行四辺形



日にち： 月 日

名まえ _____

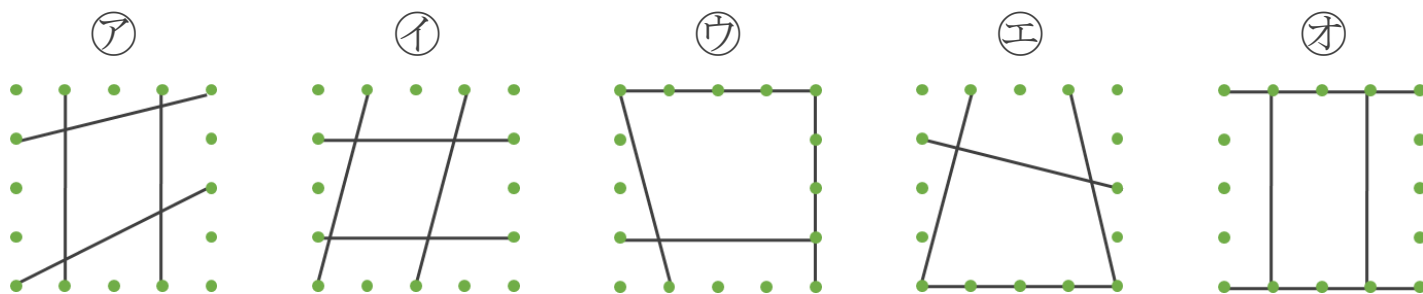
1 次の四角形を、台形と平行四辺形に分けましょう。



答え： 台形… イ, ウ

平行四辺形… ア

2 平行な直線の組の数に注目して、次の四角形を3つのなかまに分けましょう。



① 平行な直線が1組

答え： ア, ウ

② 平行な直線が2組

答え： イ, オ

③ 平行な直線がない

答え： エ