



# 垂直、平行と 四角形 19

◎ 対角線の性質と  
四角形の種類



日にち： 月 日

名まえ \_\_\_\_\_

1 次のせいしつがいつでもあてはまる四角形を、下からすべて選んで㊦から㊦で  
答えましょう。

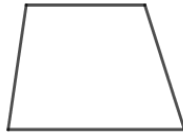
㊦平行四辺形



㊦長方形




㊦台形



㊦ひし形



㊦正方形



① 4つの辺の長さがどれも等しい。

( )


② 向かい合った2組の辺がそれぞれ平行。

( )

③ 2本の対角線がそれぞれの真ん中の点で交わる。

( )

2 対角線の長さが6cmと8cmのひし形をかきましょう。





# 垂直、平行と 四角形 19

◎ 対角線の性質と  
四角形の種類



日にち： 月 日

名まえ \_\_\_\_\_

1 次のせいしつがいつでもあてはまる四角形を、下からすべて選んで㉗から㉜で答えましょう。

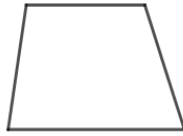
㉗ 平行四辺形



㉘ 長方形




㉙ 台形



㉚ ひし形



㉜ 正方形



① 4つの辺の長さがどれも等しい。

( ㉚, ㉜ )

② 向かい合った2組の辺がそれぞれ平行。

( ㉗, ㉘, ㉚, ㉜ )

③ 2本の対角線がそれぞれの真ん中の点で交わる。

( ㉗, ㉘, ㉚, ㉜ )

2 対角線の長さが6cmと8cmのひし形をかきましょう。

