



# 垂直、平行と四角形 10

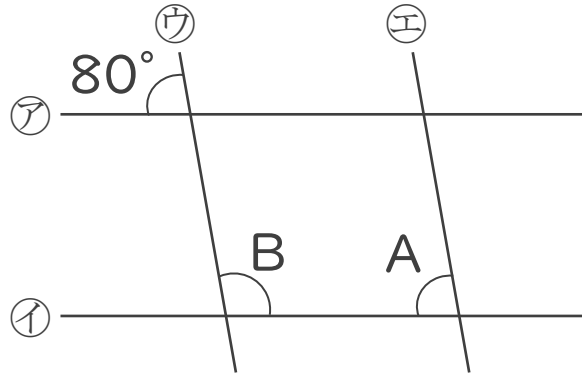
対頂角や平行線の同位角



日にち： 月 日

名まえ \_\_\_\_\_

- 1 ㉗と㉘の直線、㉙と㉚の直線は、それぞれ平行です。  
次の問いに答えましょう。



① Aの角度は何度ですか。

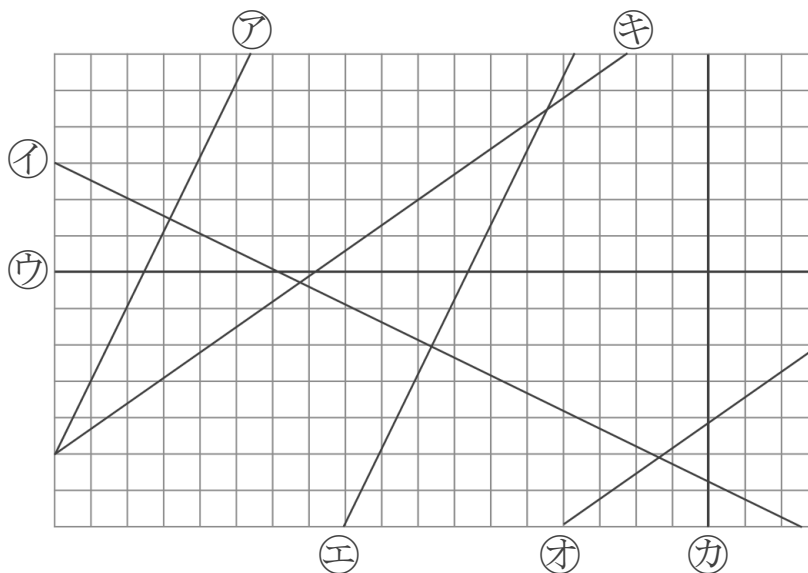
答え： \_\_\_\_\_

② Bの角度は何度ですか。

式：

答え： \_\_\_\_\_

- 2 次の図で、垂直な直線はどれとどれですか。  
また、平行な直線はどれとどれですか。



答え： 垂直…

平行…





# 垂直, 平行と四角形 10

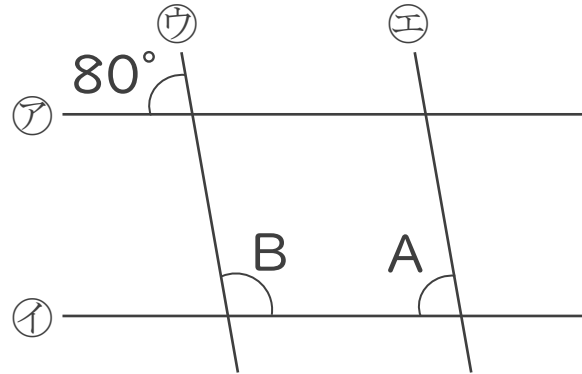
対頂角や平行線の同位角



日にち： 月 日

名まえ \_\_\_\_\_

- 1 ㉗と㉙の直線、㉘と㉚の直線は、それぞれ平行です。  
次の問いに答えましょう。



- ① Aの角度は何度ですか。

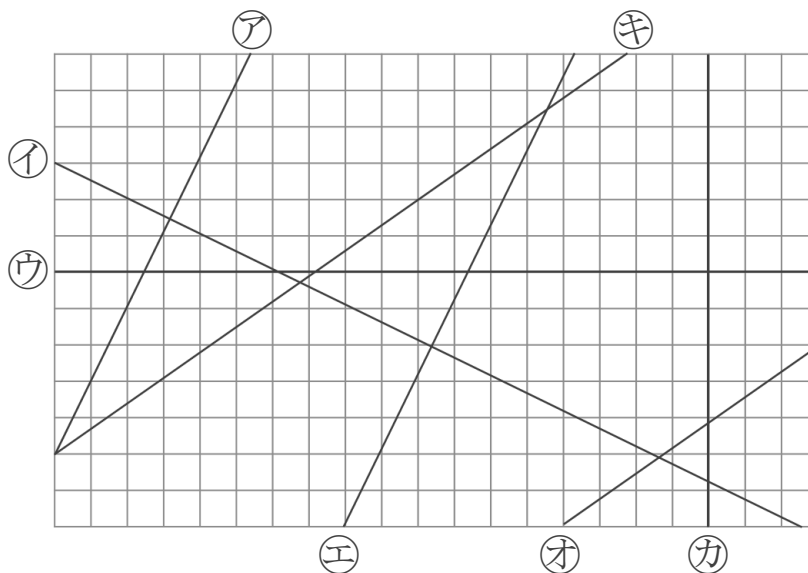
答え： 80°

- ② Bの角度は何度ですか。

式：  $180 - 80 = 100$

答え： 100°

- 2 次の図で、垂直な直線はどれとどれですか。  
また、平行な直線はどれとどれですか。



答え： 垂直… ㉗と㉙, ㉘と㉙, ㉘と㉚

平行… ㉗と㉘, ㉚と㉜

