



小数のたし算とひき算4

◎ 計算のくふうと小数のたし算



日にち： 月 日

名まえ _____

1 エ夫して計算しましょう。

① $8.6 + 5.7 + 2.3 =$

=

=

② $2.72 + 8.1 + 1.28 =$

=


=

2 次の計算をしましょう。


① $6.94 + 6.4$




② $4.32 + 0.98$



③ $16 + 4.983$



④ $84.81 + 7.19$





小数のたし算とひき算4

◎ 計算のくふうと小数のたし算



日にち： 月 日

名まえ _____

1 工夫して計算しましょう。

$$\begin{aligned} \textcircled{1} \quad 8.6 + 5.7 + 2.3 &= 5.7 + 2.3 + 8.6 \\ &= 8 + 8.6 \\ &= 16.6 \end{aligned}$$

$$\begin{aligned} \textcircled{2} \quad 2.72 + 8.1 + 1.28 &= 2.72 + 1.28 + 8.1 \\ &= 4 + 8.1 \\ &= 12.1 \end{aligned}$$

2 次の計算をしましょう。

① 6.94 + 6.4

	6	.	9	4	
+	6	.	4	0	
<hr/>					
	1	3	.	3	4

② 4.32 + 0.98

	4	.	3	2
+	0	.	9	8
<hr/>				
	5	.	3	0

③ 16 + 4.983

	1	6	.	0	0	0
+		4	.	9	8	3
<hr/>						
	2	0	.	9	8	3

④ 84.81 + 7.19

	8	4	.	8	1
+		7	.	1	9
<hr/>					
	9	2	.	0	0

