



分数 (分数の表し方) 4

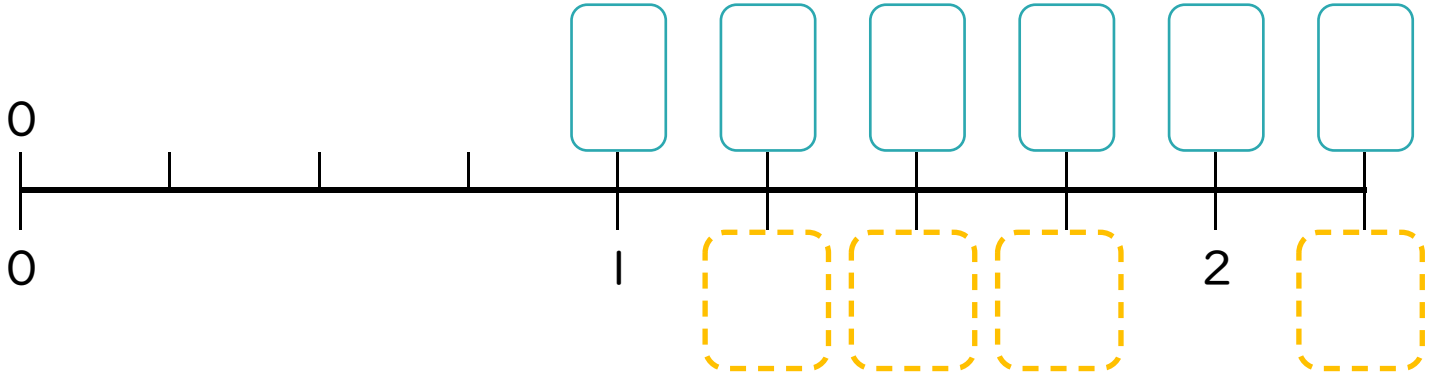
● 帯分数・仮分数を数直線に書く



日にち： 月 日

名まえ _____

1 次の問いに答えましょう。



① にあてはまる**仮分数**を書きましょう。

② にあてはまる**帯分数**を書きましょう。

2 にあてはまる不等号を書きましょう。

① $3\frac{3}{5}$ $3\frac{4}{5}$


④ $2\frac{3}{8}$ $1\frac{5}{8}$

② $1\frac{5}{6}$ $2\frac{1}{6}$

⑤ $2\frac{2}{3}$ $2\frac{1}{3}$

③ $1\frac{7}{9}$ $1\frac{8}{9}$

⑥ $3\frac{5}{7}$ $4\frac{4}{7}$



分数 (分数の表し方) 4

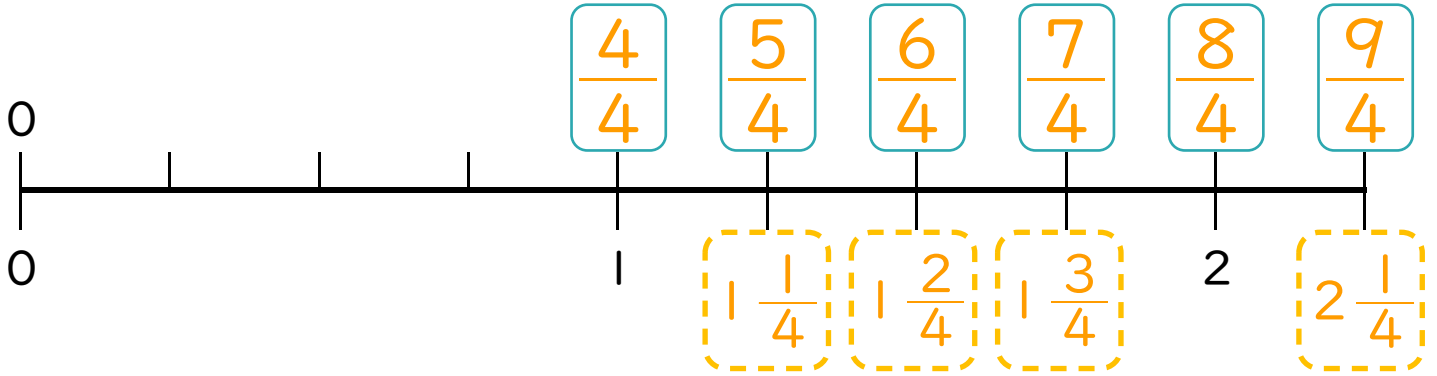
● 帯分数・仮分数を数直線に書く



日にち： 月 日

名まえ _____

1 次の問いに答えましょう。



① にあてはまる**仮分数**を書きましょう。

② にあてはまる**帯分数**を書きましょう。

2 にあてはまる不等号を書きましょう。

① $3\frac{3}{5} < 3\frac{4}{5}$

④ $2\frac{3}{8} > 1\frac{5}{8}$

② $1\frac{5}{6} < 2\frac{1}{6}$

⑤ $2\frac{2}{3} > 2\frac{1}{3}$

③ $1\frac{7}{9} < 1\frac{8}{9}$

⑥ $3\frac{5}{7} < 4\frac{4}{7}$