



面積の
はかり方と表し方 9

◎ 平方キロメートルの面積



日にち： 月 日

名まえ _____

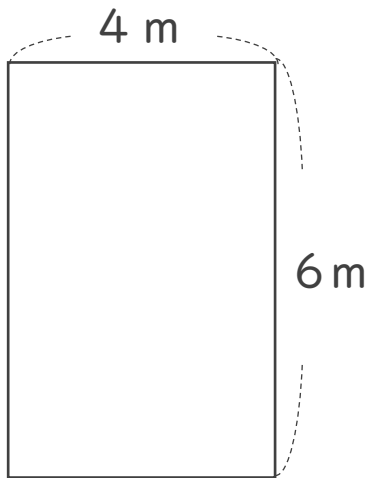
1 たて4km、横9kmのうめたて地の面積は、何 km^2 でしょう。

式：

答え： _____

2 次の図形の面積を求めましょう。

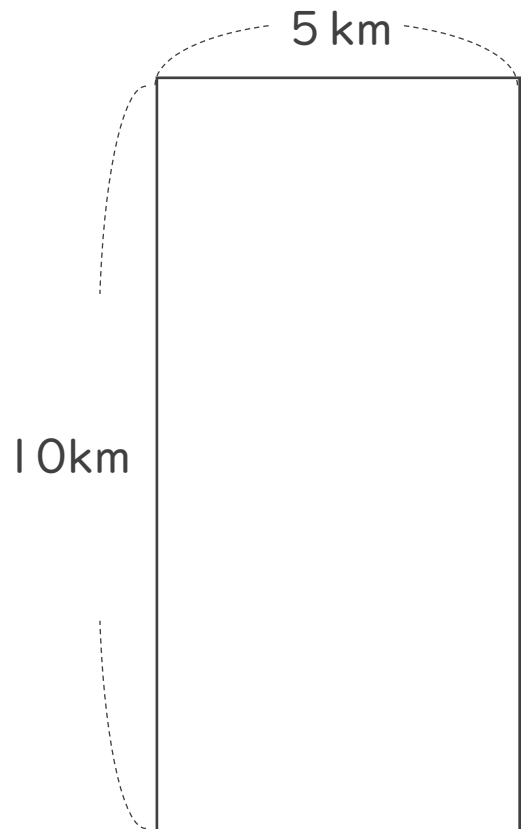
①



式：

答え： _____

②



式：

答え： _____



面積の
はかり方と表し方 9

◎ 平方キロメートルの面積



日にち： 月 日

名まえ _____

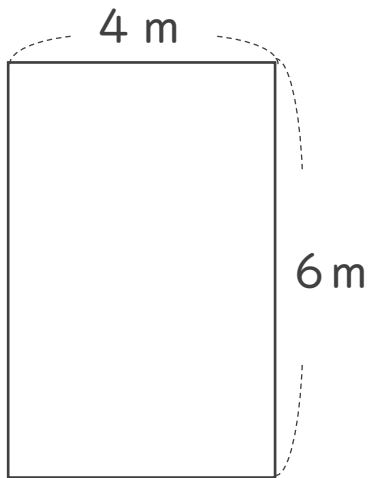
1 たて4km、横9kmのうめたて地の面積は、何 km^2 でしょう。

$$\text{式： } 4 \times 9 = 36$$

答え： 36 km^2

2 次の図形の面積を求めましょう。

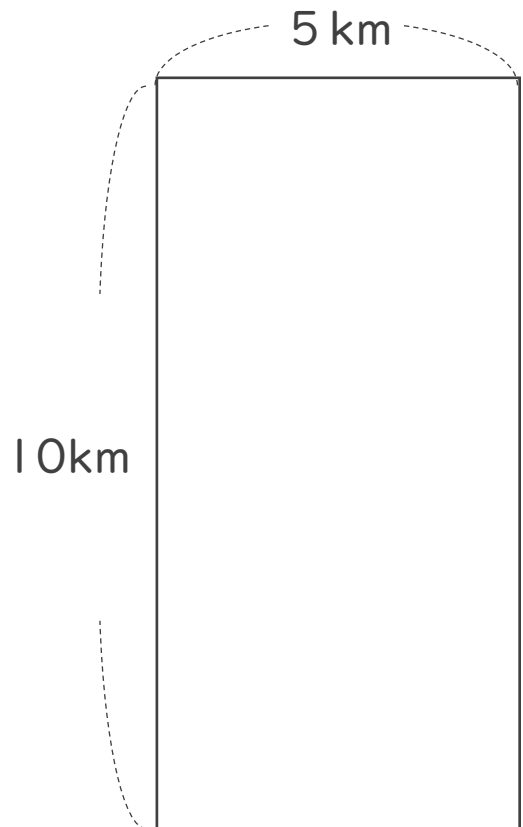
①



$$\text{式： } 6 \times 4 = 24$$

答え： 24 m^2

②



$$\text{式： } 10 \times 5 = 50$$

答え： 50 km^2

