



# 垂直, 平行と 四角形⑦

● 平行な直線をひく



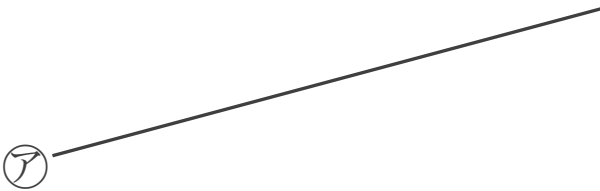
日にち：            月            日

名まえ \_\_\_\_\_

1 2まいの三角じょうぎを使って、次の点を通り、直線に平行な直線をひきましょう。

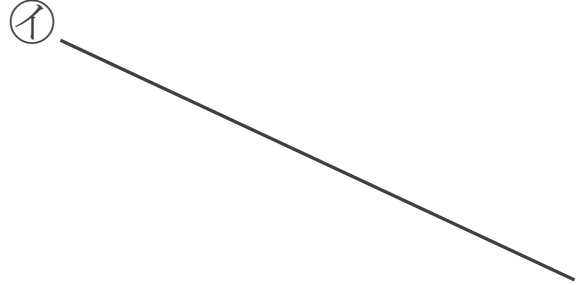
①

A  
●



②

イ



B  
●

2 2まいの三角じょうぎを使って、次の点を通り、直線に垂直な直線をひきましょう。

①


ア



A  
●

②

イ



B  
●





# 垂直、平行と 四角形⑦

● 平行な直線をひく

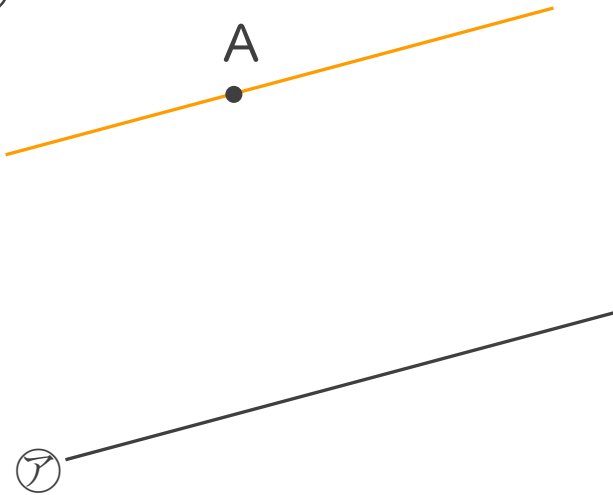


日にち：            月            日

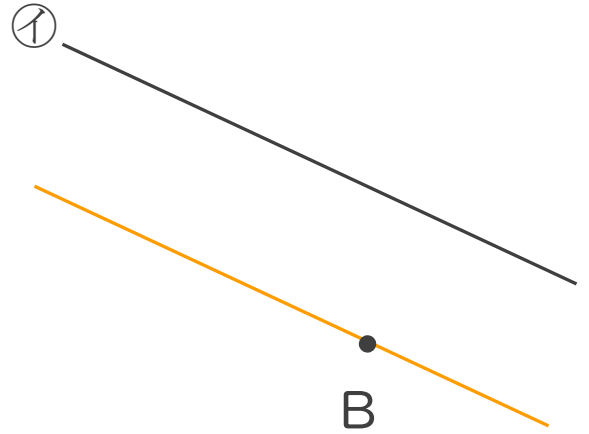
名まえ \_\_\_\_\_

1 2まいの三角じょうぎを使って、次の点を通り、直線に平行な直線をひきましょう。

①

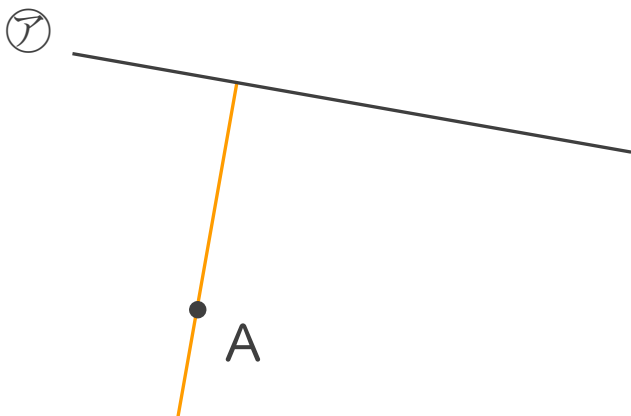


②



2 2まいの三角じょうぎを使って、次の点を通り、直線に垂直な直線をひきましょう。

①



②

