



# 垂直, 平行と 四角形 6

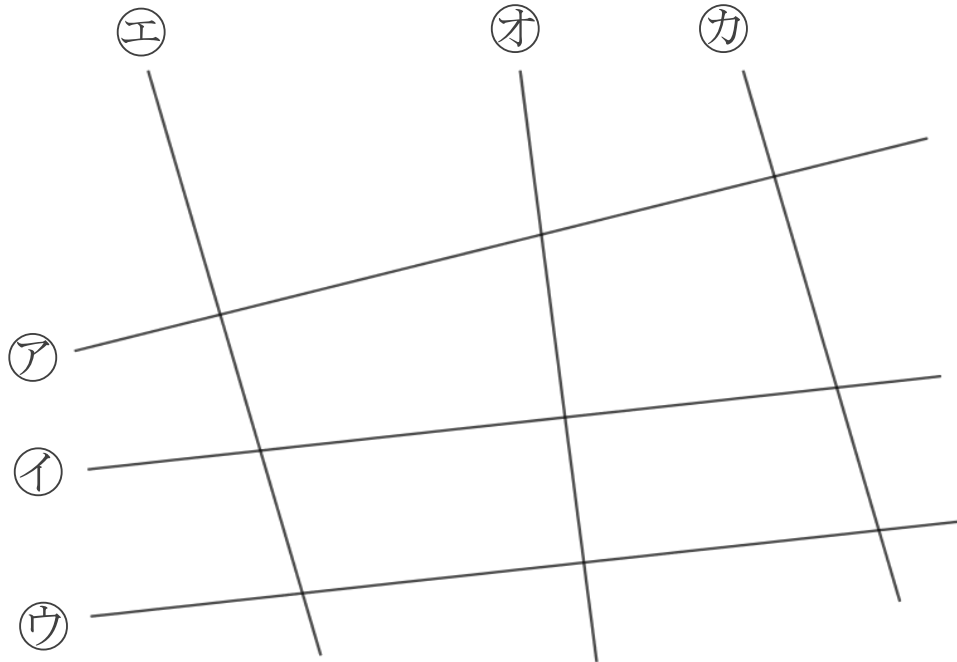
● 平行な直線探し



日にち：      月      日

名まえ \_\_\_\_\_

1 次の図で、平行な直線は、どれとどれですか。




答え： \_\_\_\_\_

2 2まいの三角じょうぎを使って、次の点を通り、直線に垂直な直線をひきましょう。

①



②





# 垂直, 平行と 四角形⑥

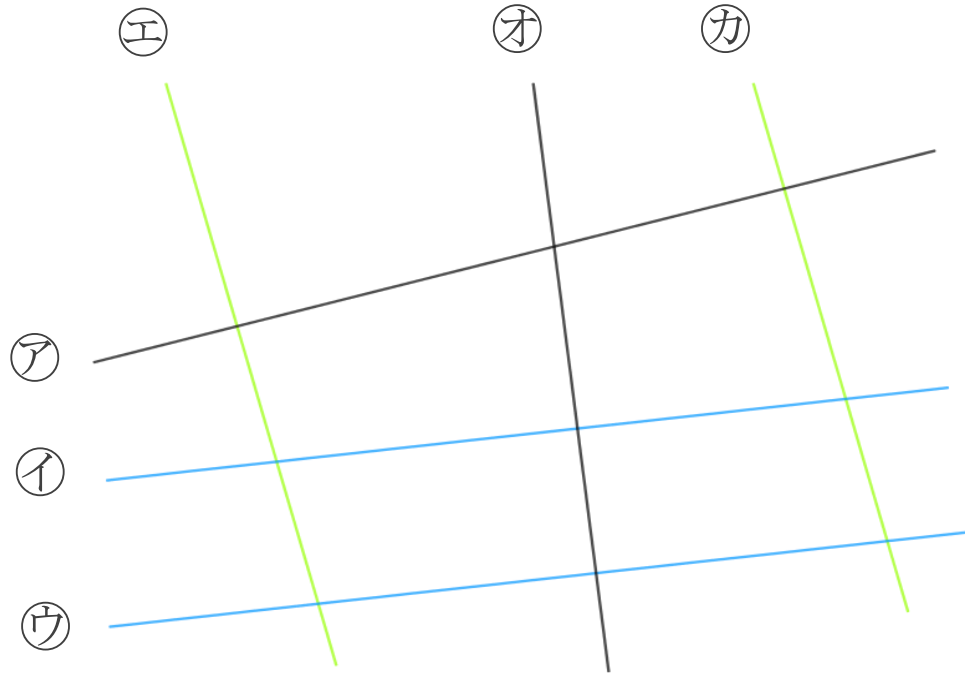
● 平行な直線探し



日にち：      月      日

名まえ \_\_\_\_\_

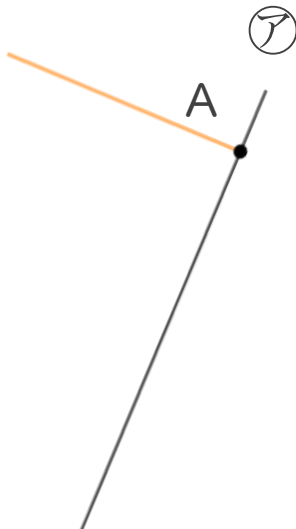
1 次の図で、平行な直線は、どれとどれですか。



答え： **イとウ** , **エとカ**

2 2まいの三角じょうぎを使って、次の点を通り、直線に垂直な直線をひきましょう。

①



②

