



直方体や立方体 15

● 平面の位置の表し方
(たてと横)



日にち： 月 日

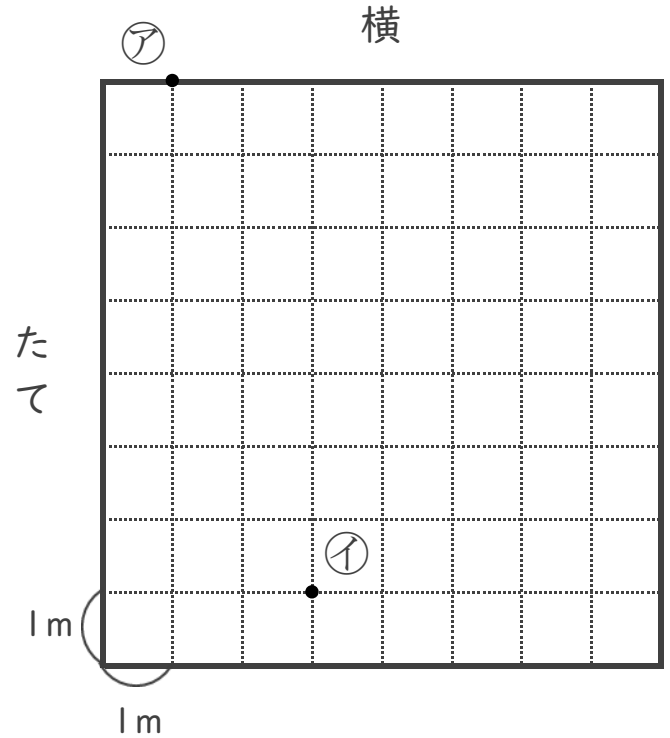
名まえ

1 位置の表し方について考えましょう。

① ㊦から、横に3m、
たてに2mのところに
● 印をつけましょう。

② ㊦から、横に5m、
たてに3mのところに
● 印をつけましょう。

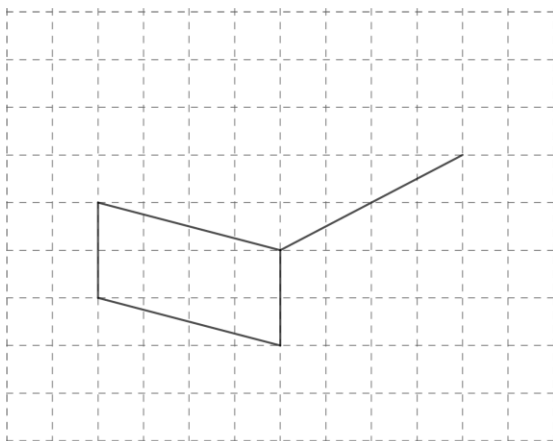
③ ①は、㊦から
横に何m、たてに何mの
ところですか。



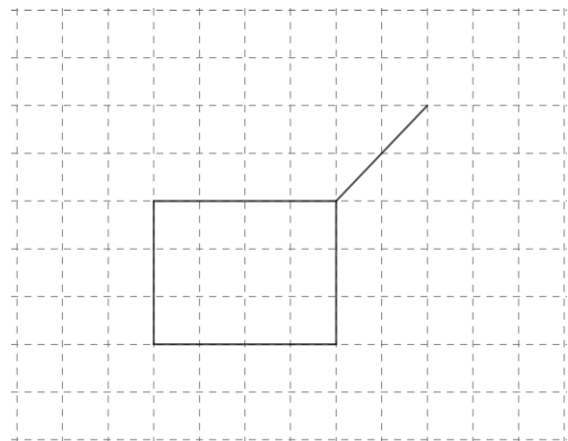
答え 横に m , たてに m

2 次の図に線を加えて、見取図を完成させましょう。

①



②





直方体や立方体 15

● 平面の位置の表し方
(たてと横)



日にち： 月 日

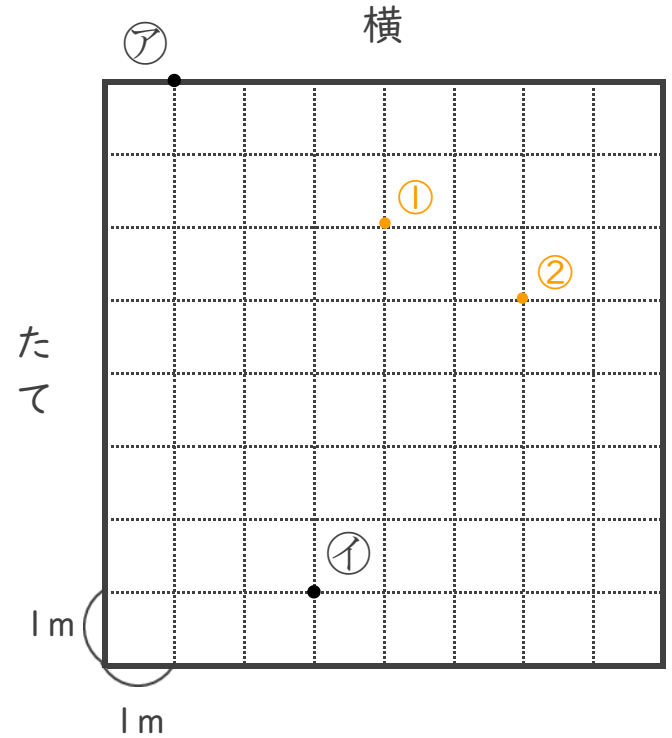
名まえ _____

1 位置の表し方について考えましょう。

① ㊦から、横に3m、
たてに2mのところに
• 印をつけましょう。

② ㊦から、横に5m、
たてに3mのところに
• 印をつけましょう。

③ ①は、㊦から
横に何m、たてに何mの
ところですか。



答え 横に **2** m , たてに **7** m

2 次の図に線を加えて、見取図を完成させましょう。

