



小数の表し方5

◎ 数直線の読みとり



日にち： 月 日

名まえ _____

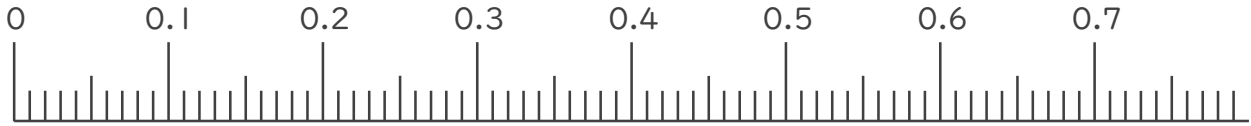
1. 次の小数を表すめもりに ↑ を書きましょう。

① 0.03

② 0.28

③ 0.45

④ 0.69

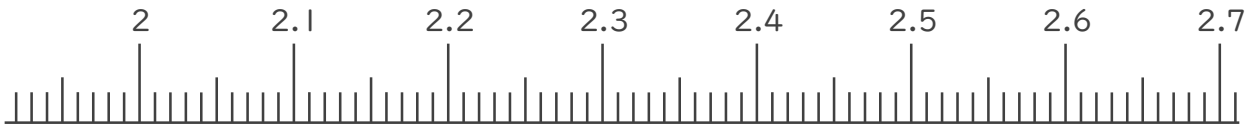


⑤ 2.03

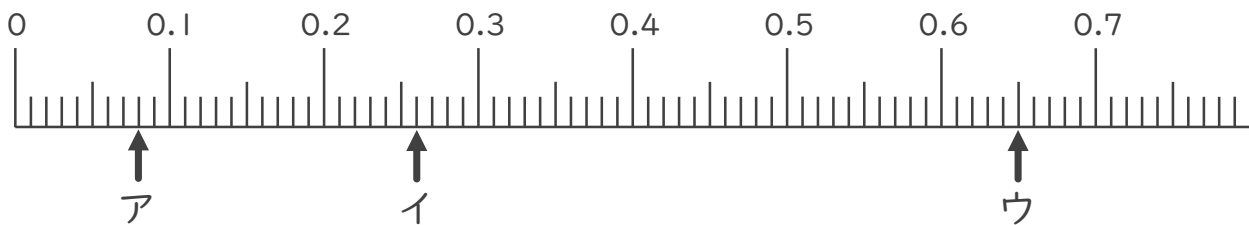
⑥ 2.25

⑦ 2.47

⑧ 2.63



2. 次の数直線でア～オが表す数を答えましょう。



ア

イ

ウ





小数の表し方5

◎ 数直線の読みとり



日にち： 月 日

名まえ _____

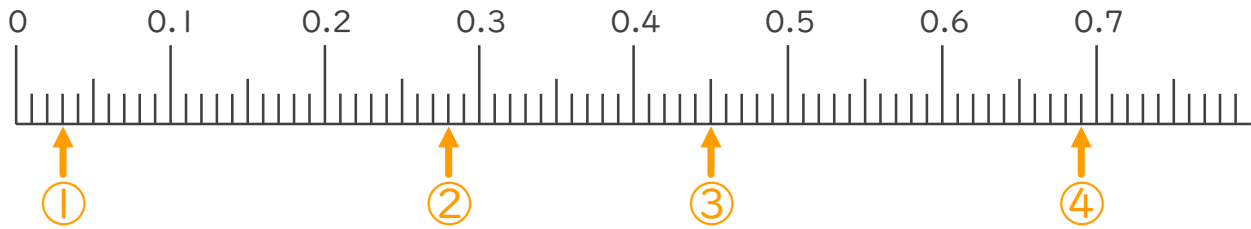
1. 次の小数を表すめもりに ↑ を書きましょう。

① 0.03

② 0.28

③ 0.45

④ 0.69

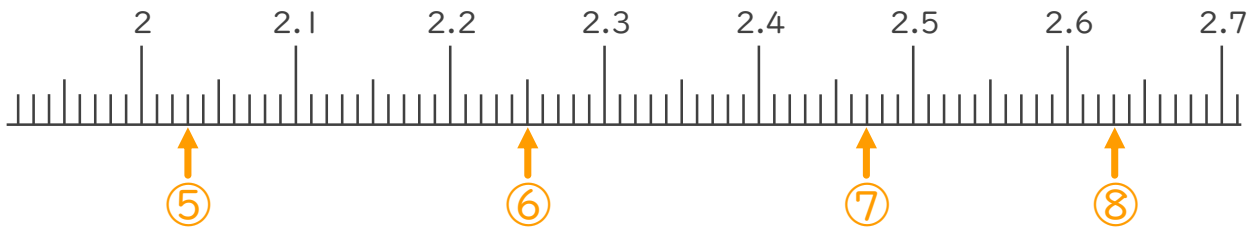


⑤ 2.03

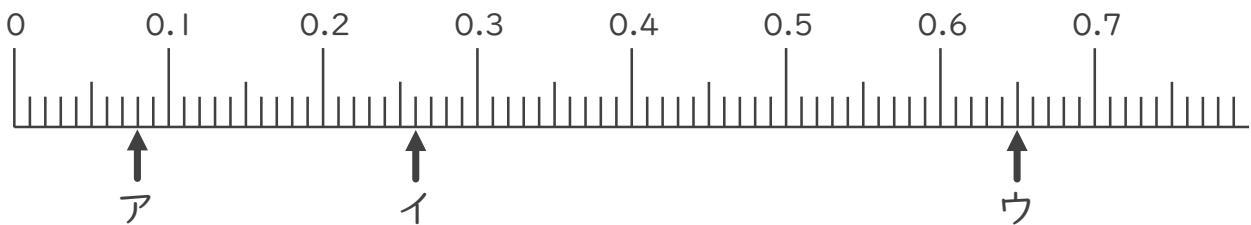
⑥ 2.25

⑦ 2.47

⑧ 2.63



2. 次の数直線でア～オが表す数を答えましょう。



ア 0.08

イ 0.26

ウ 0.65

