



小数の表し方8

◎ 数直線の読みとり
(小数第三位)



日にち： 月 日

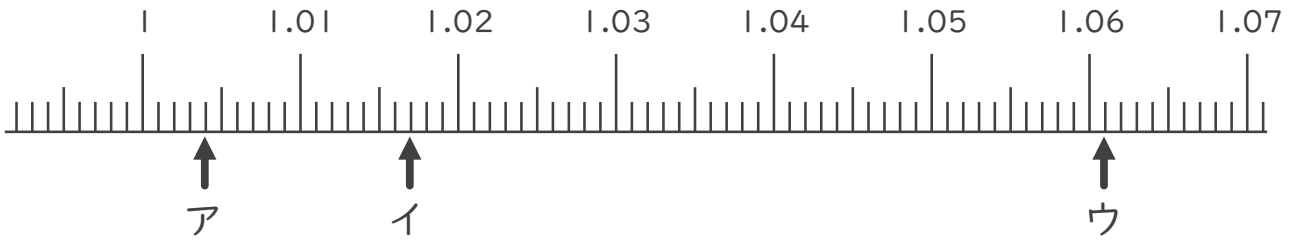
名まえ _____

1. 次の小数を表すめもりに ↑ を書きましょう。

- ① 2.003
- ② 2.015
- ③ 2.048
- ④ 2.064



2. 次の数直線でア～ウが表す数を答えましょう。



ア _____ イ _____ ウ _____

3. 次の問いに答えましょう。


① 0.005m は 0.001m を何こ集めたかさですか？

答え _____

② 0.012m は 0.001m を何こ集めたかさですか？

答え _____





小数の表し方8

◎ 数直線の読みとり
(小数第三位)

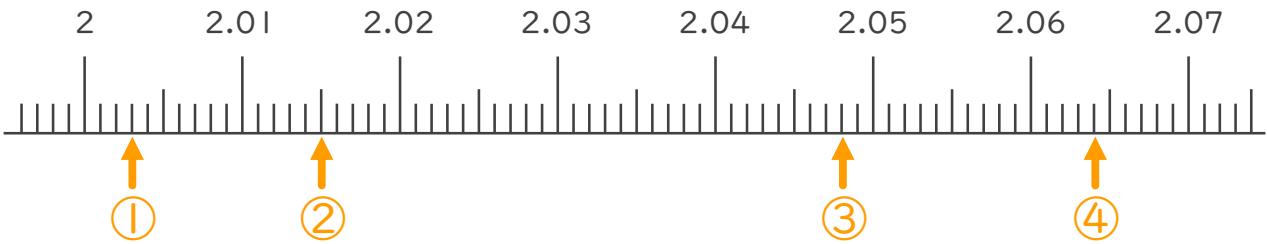


日にち： 月 日

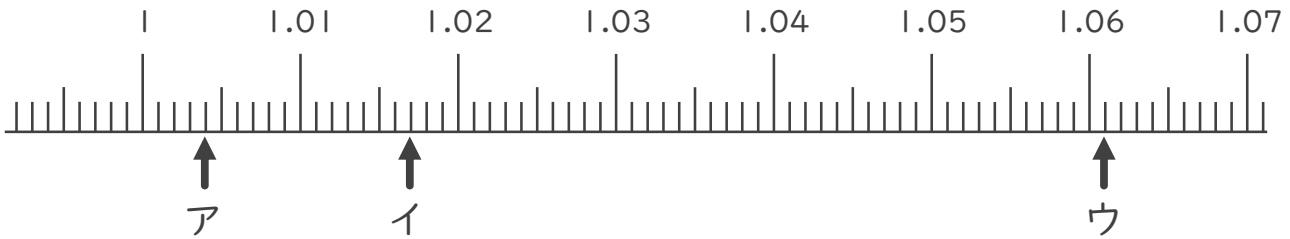
名まえ _____

1. 次の小数を表すめもりに ↑ を書きましょう。

- ① 2.003 ② 2.015 ③ 2.048 ④ 2.064



2. 次の数直線でア～ウが表す数を答えましょう。



ア 1.004 イ 1.017 ウ 1.061

3. 次の問いに答えましょう。

① 0.005m は 0.001m を何こ集めたかさですか？

答え 5こ

② 0.012m は 0.001m を何こ集めたかさですか？

答え 12こ

