



小数の表し方4

◎ 水のかさをぬる

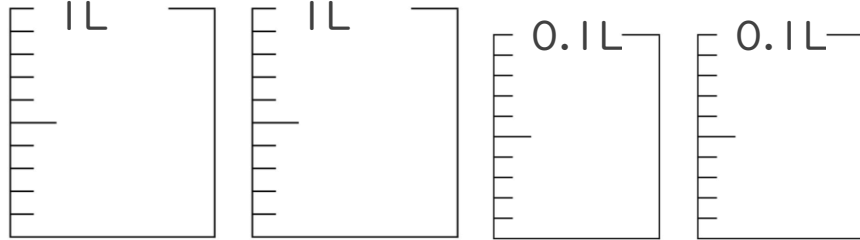


日にち： 月 日

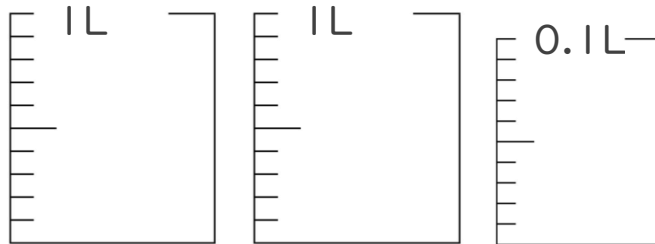
名まえ _____

1. 次の水のかさの分だけ色をぬりましょう。

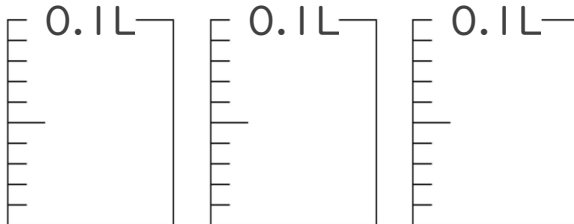
① 2.12 L



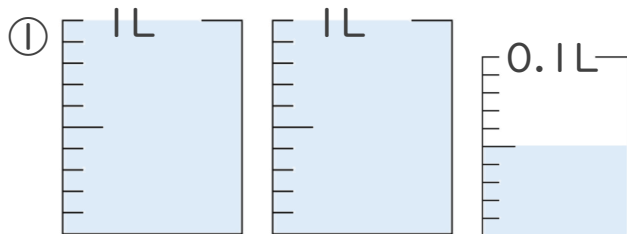
② 2.08 L



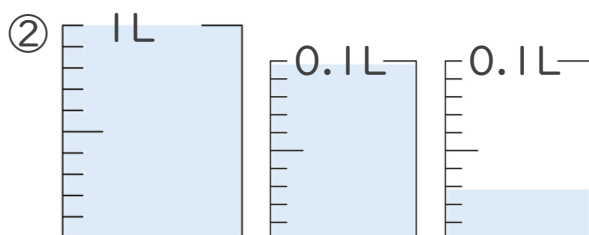
③ 0.25 L



2. 1L入る水さしと、0.1L入る水さしがあります。
水さしに入っている水のかさを、L単位で表しましょう。



答え _____



答え _____





小数の表し方4

◎ 水のかさをぬる

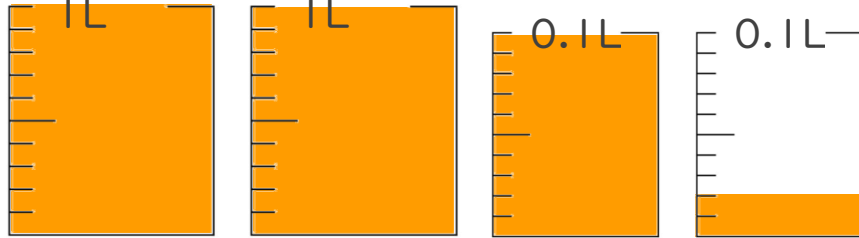


日にち： 月 日

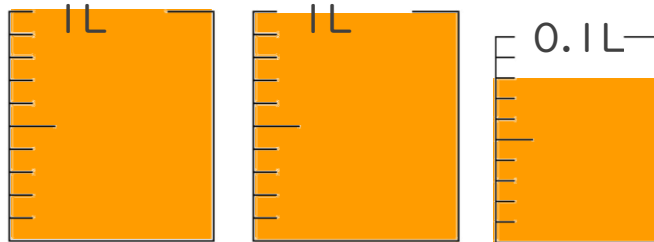
名まえ _____

1. 次の水のかさの分だけ色をぬりましょう。

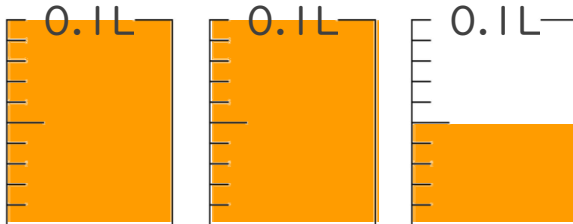
① 2.12 L



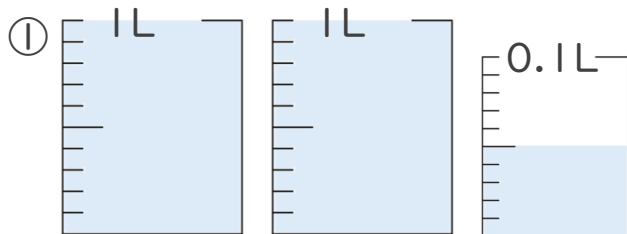
② 2.08 L



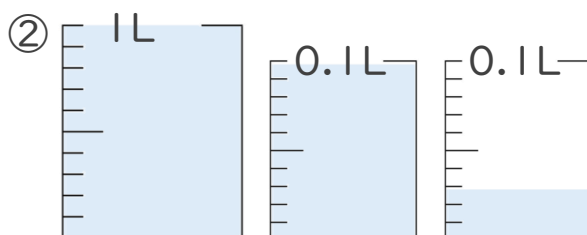
③ 0.25 L



2. 1L入る水さしと、0.1L入る水さしがあります。
水さしに入っている水のかさを、L単位で表しましょう。



答え 2.05L



答え 1.13L

