



# 分数 (分数の表し方) !

● 真分数・帯分数・仮分数とは



日にち：            月            日

名まえ \_\_\_\_\_

1 次の分数は、真分数、仮分数、帯分数のどれですか。

①  $3\frac{1}{10}$

②  $\frac{5}{2}$

③  $\frac{8}{9}$

④  $2\frac{4}{7}$

⑤  $\frac{2}{2}$

⑥  $\frac{11}{6}$

答え： ①

②

③

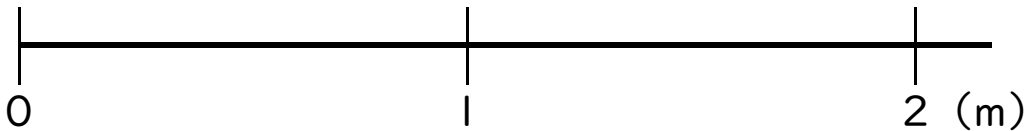
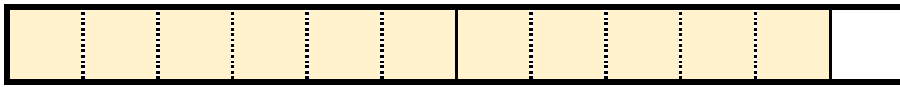
④

⑤

⑥

2 色をぬった部分の長さを、仮分数と帯分数の両方で表しましょう

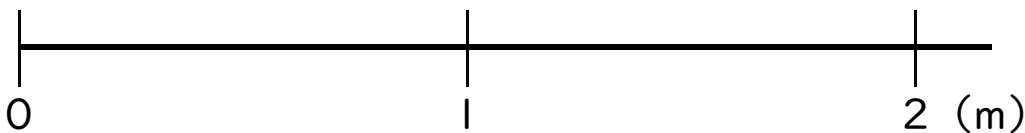
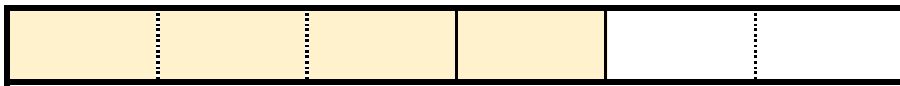
①



答え： 仮分数…

帯分数…

②



答え： 仮分数…

帯分数…





# 分数 (分数の表し方) !

● 真分数・帯分数・仮分数とは



日にち： 月 日

名まえ \_\_\_\_\_

1 次の分数は、真分数、仮分数、帯分数のどれですか。

①  $3\frac{1}{10}$

②  $\frac{5}{2}$

③  $\frac{8}{9}$

④  $2\frac{4}{7}$

⑤  $\frac{2}{2}$

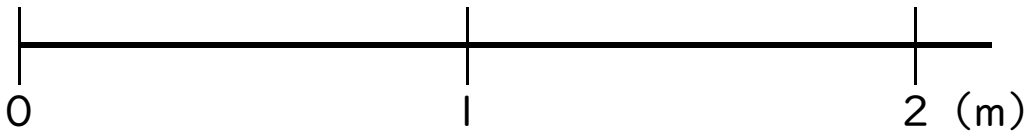
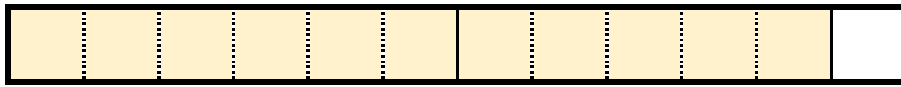
⑥  $\frac{11}{6}$

答え： ① 帯分数      ② 仮分数      ③ 真分数

④ 帯分数      ⑤ 仮分数      ⑥ 仮分数

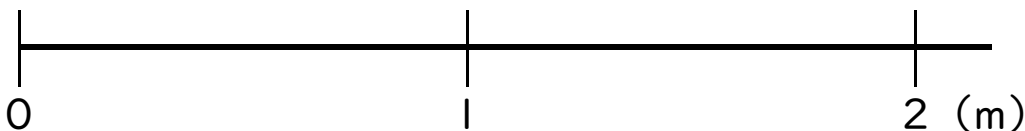
2 色をぬった部分の長さを、仮分数と帯分数の両方で表しましょう

①



答え： 仮分数…  $\frac{11}{6}$       帯分数…  $1\frac{5}{6}$

②



答え： 仮分数…  $\frac{4}{3}$       帯分数…  $1\frac{1}{3}$

