



直方体や立方体 9

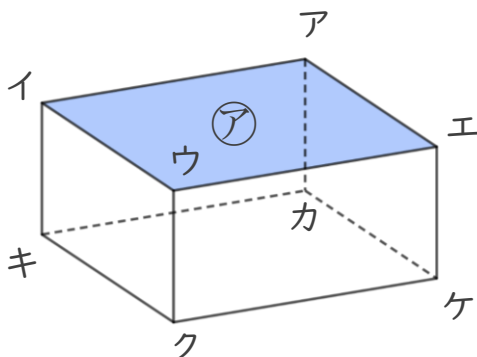
◎ 辺と面の関係 (垂直)



日にち： 月 日

名まえ _____

1 面と辺の関係について調べましょう。



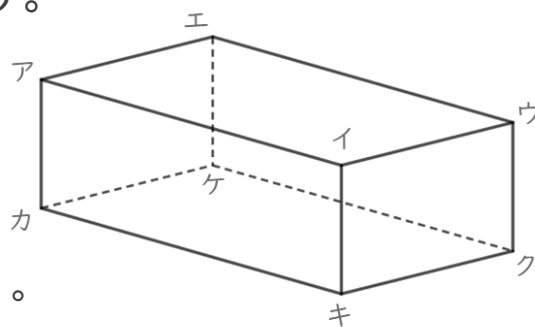
① 面アと垂直な辺を全部書きましょう。

答え _____

② 面ウクケエと垂直な辺を全部書きましょう。

答え _____

2 辺と辺の関係について調べましょう。




① 辺アイと平行な辺を全部書きましょう。

答え _____

② 辺カキと垂直な辺を全部書きましょう。

答え _____





直方体や立方体 9

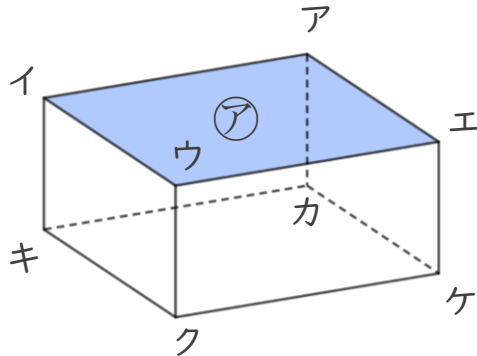
◎ 辺と面の関係 (垂直)



日にち： 月 日

名まえ _____

1 面と辺の関係について調べましょう。



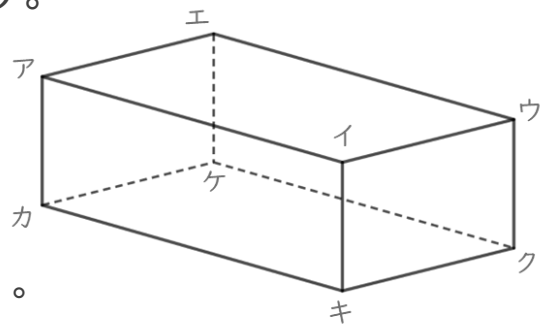
① 面アと垂直な辺を全部書きましょう。

答え 辺イキ , 辺ウク , 辺エケ , 辺アカ

② 面ウクケエと垂直な辺を全部書きましょう。

答え 辺ウイ , 辺クキ , 辺ケカ , 辺エア

2 辺と辺の関係について調べましょう。



① 辺アイと平行な辺を全部書きましょう。

答え 辺カキ , 辺エウ , 辺ケク

② 辺カキと垂直な辺を全部書きましょう。

答え 辺カア , 辺カケ , 辺キイ , 辺キク

