



# 小数の表し方3

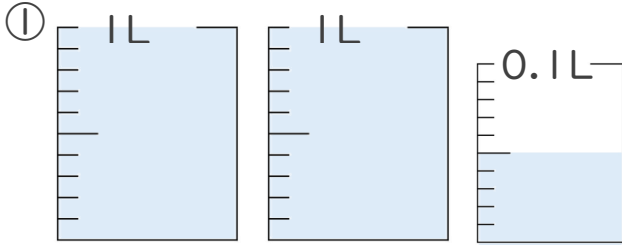
◎ 0.01を何こ？



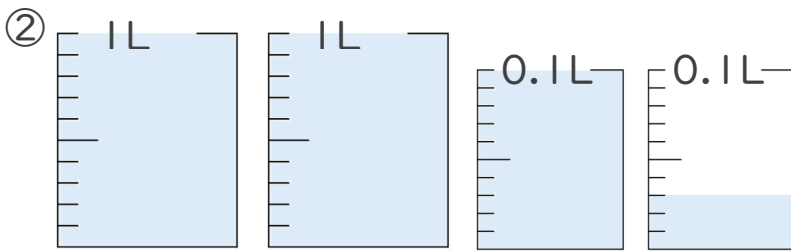
日にち：        月        日

名まえ \_\_\_\_\_

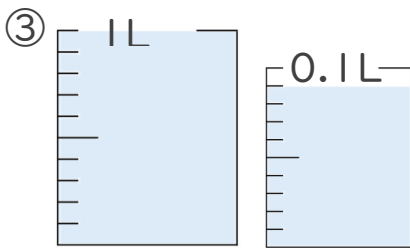
1. 1L入る水さしと、0.1L入る水さしがあります。  
水さしに入っている水のかさを、L単位で表しましょう。



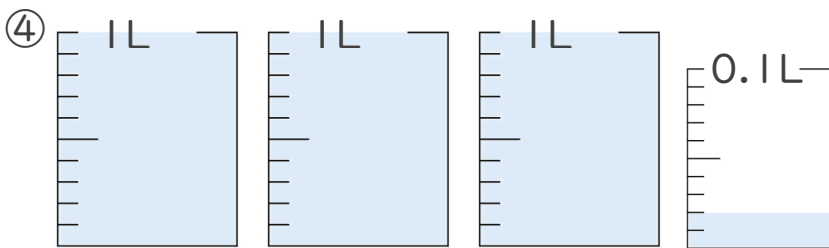
答え \_\_\_\_\_



答え \_\_\_\_\_



答え \_\_\_\_\_



答え \_\_\_\_\_

2. 次の問いに答えましょう。

① 0.1Lは0.01Lを何こ集めたかさですか？

答え \_\_\_\_\_

② 0.15Lは0.01Lを何こ集めたかさですか？

答え \_\_\_\_\_





# 小数の表し方3

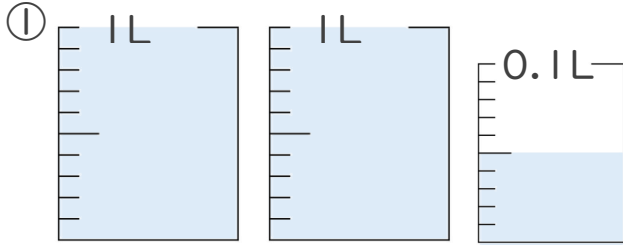
◎ 0.01を何こ？



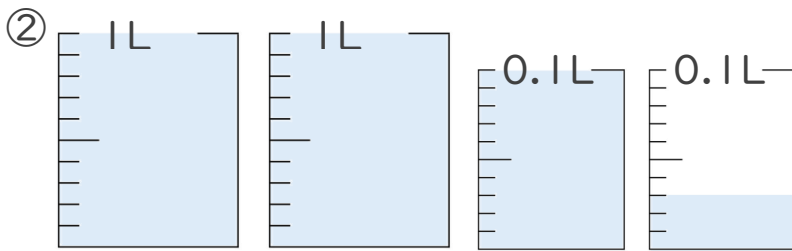
日にち：          月          日

名まえ \_\_\_\_\_

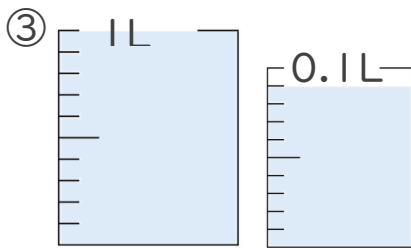
1. 1L入る水さしと、0.1L入る水さしがあります。  
水さしに入っている水のかさを、L単位で表しましょう。



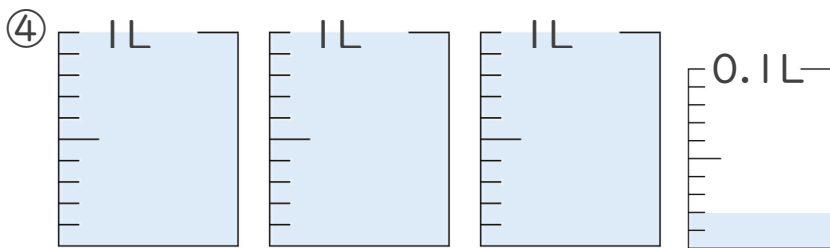
答え 2.05L



答え 2.13L



答え 1.09L



答え 3.02L

2. 次の問いに答えましょう。

① 0.1Lは0.01Lを何こ集めたかさですか？

答え 10こ

② 0.15Lは0.01Lを何こ集めたかさですか？

答え 15こ

