



# 小数のしくみ7

◎ 6より0.03小さい数



日にち：            月            日

名まえ  
\_\_\_\_\_

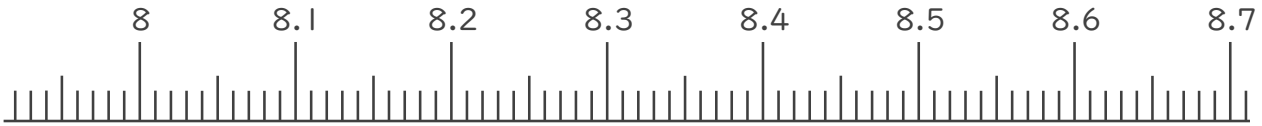
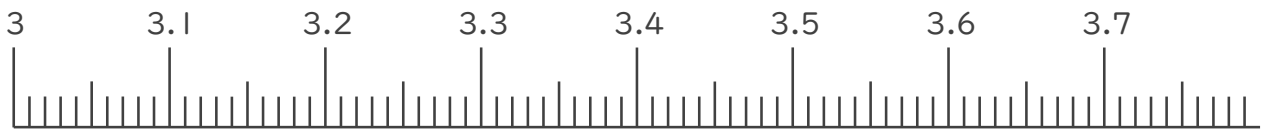
1. 下の数直線で、ア～エの数を表すめもりに ↑ をかきましょう。  
また、 ↑ の下にア～エの記号とその数をかきましょう。

ア 3.2より0.03小さい数

イ 3.6より0.04大きい数

ウ 8.2より0.08小さい数

エ 8.4より0.09大きい数



2. 次の数はいくつですか。

① 6と0.81をあわせた数

答え  
\_\_\_\_\_

② 1を4こ、0.1を1こ、0.01を7こあわせた数

答え  
\_\_\_\_\_

③ 0.01を67こ集めた数

答え  
\_\_\_\_\_





# 小数のしくみ7

◎ 6より0.03小さい数



日にち：          月          日

名まえ

---

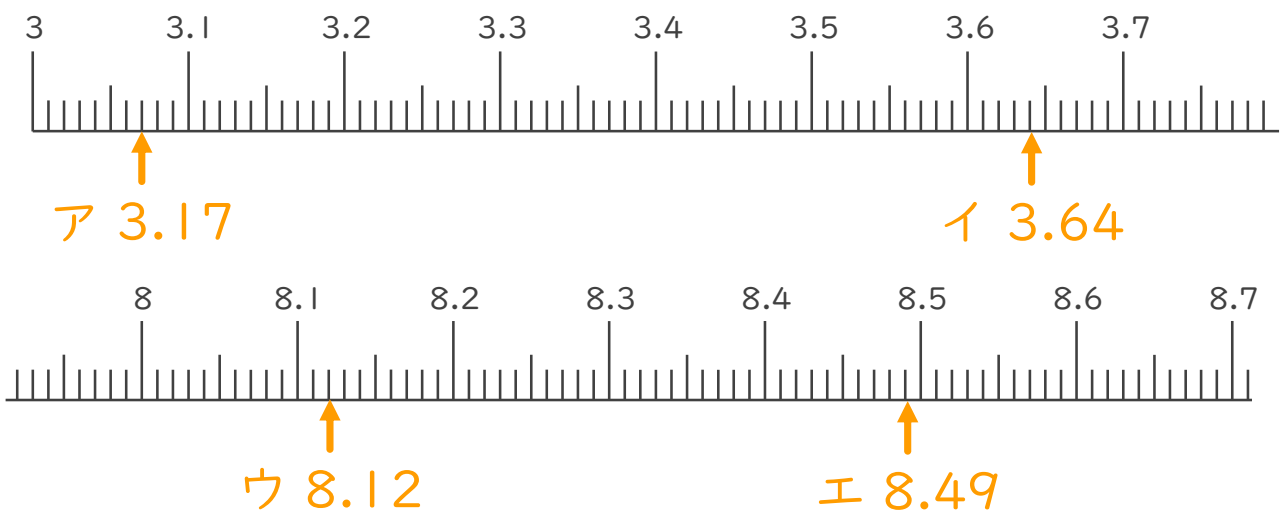
1. 下の数直線で、ア～エの数を表すめもりに ↑ をかきましょう。  
また、 ↑ の下にア～エの記号とその数をかきましょう。

ア 3.2より0.03小さい数

イ 3.6より0.04大きい数

ウ 8.2より0.08小さい数

エ 8.4より0.09大きい数



2. 次の数はいくつですか。

① 6と0.81をあわせた数

答え 6.81

② 1を4こ、0.1を1こ、0.01を7こあわせた数

答え 4.17

③ 0.01を67こ集めた数

答え 0.67

