



# 分数 (分数の表し方) 5

◎ 仮分数を帯分数や整数になおす

12

日にち：            月            日

名まえ \_\_\_\_\_

1 次の仮分数を、帯分数か整数になおしましょう

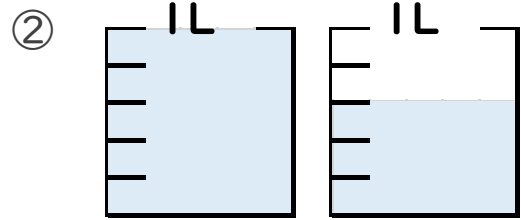
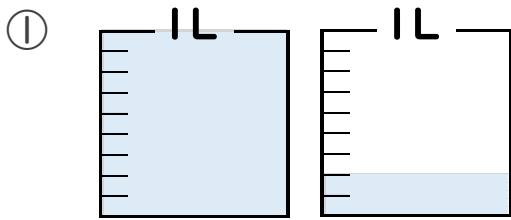
①  $\frac{9}{2} =$

③  $\frac{8}{5} =$

②  $\frac{49}{6} =$

④  $\frac{19}{4} =$

2 水のかさは何Lですか。仮分数と帯分数の両方で表しましょう。



答え    仮分数…

答え    仮分数…

帯分数…

帯分数…

\_\_\_\_\_

\_\_\_\_\_



# 分数 (分数の表し方) 5

◎ 仮分数を帯分数や整数になおす



日にち：            月            日

名まえ \_\_\_\_\_

1 次の仮分数を、帯分数か整数になおしましょう

$$\textcircled{1} \quad \frac{9}{2} = 4\frac{1}{2}$$

$$9 \div 2 = 4 \text{ あまり } 1$$

$$\textcircled{2} \quad \frac{49}{6} = 8\frac{1}{6}$$

$$49 \div 6 = 8 \text{ あまり } 1$$

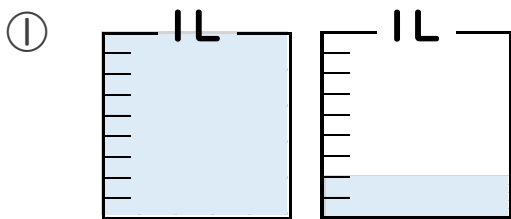
$$\textcircled{3} \quad \frac{8}{5} = 1\frac{3}{5}$$

$$8 \div 5 = 1 \text{ あまり } 3$$

$$\textcircled{4} \quad \frac{19}{4} = 4\frac{3}{4}$$

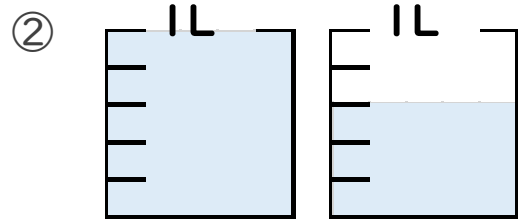
$$19 \div 4 = 4 \text{ あまり } 3$$

2 水のかさは何Lですか。仮分数と帯分数の両方で表しましょう。



答え 仮分数…  $\frac{11}{9}$  L

帯分数…  $1\frac{2}{9}$  L



答え 仮分数…  $\frac{8}{5}$  L

帯分数…  $1\frac{3}{5}$  L