



垂直, 平行と 四角形⑨

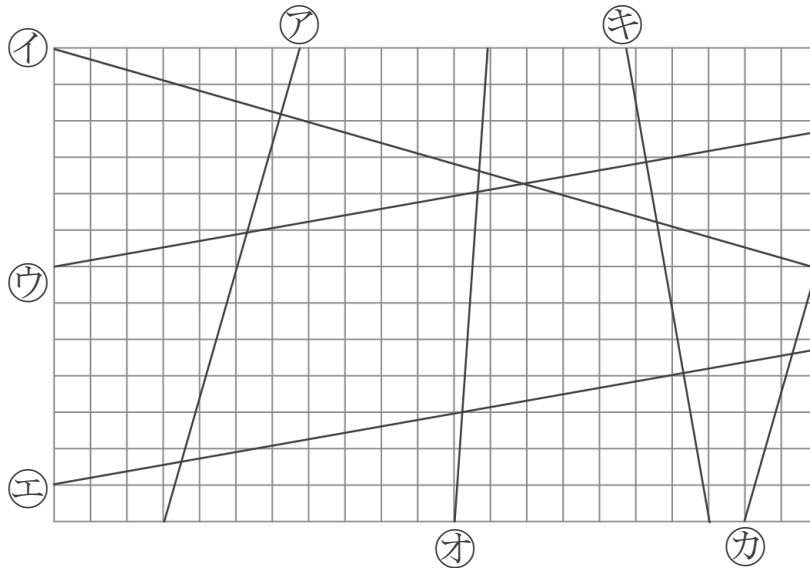
● 垂直, 平行な
組み合わせをさがす

12

日にち： 月 日

名まえ _____

1 次の図で、垂直な直線はどれとどれですか。
また、平行な直線はどれとどれですか。

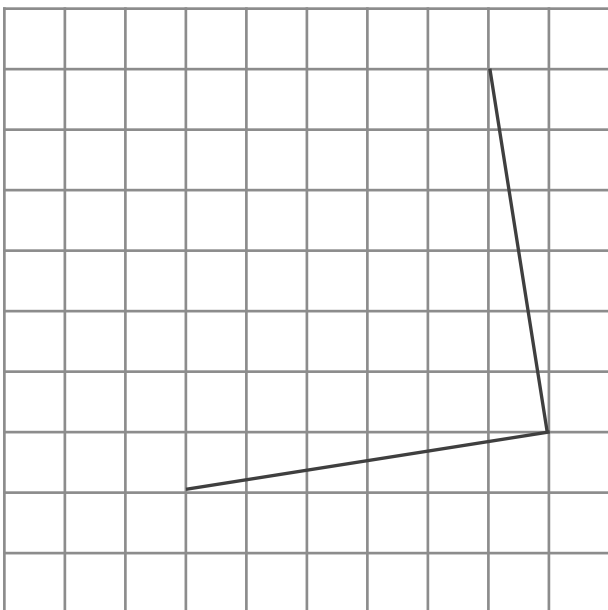


答え： 垂直…

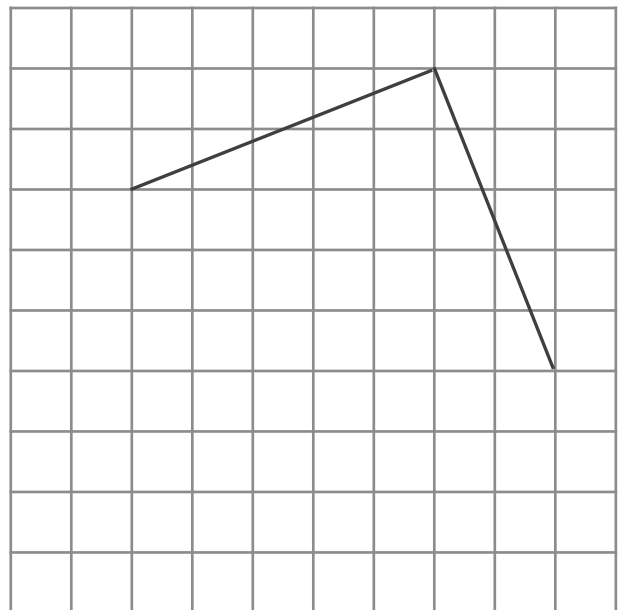
平行…

2 次の図の続きをかいて、正方形を完成させましょう。

①



②





垂直, 平行と 四角形⑨

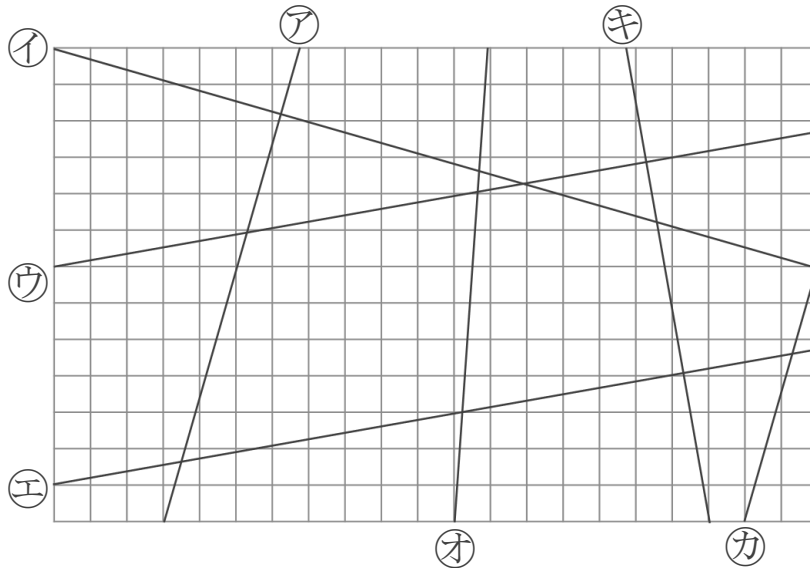
● 垂直, 平行な
組み合わせをさがす

12

日にち： 月 日

名まえ _____

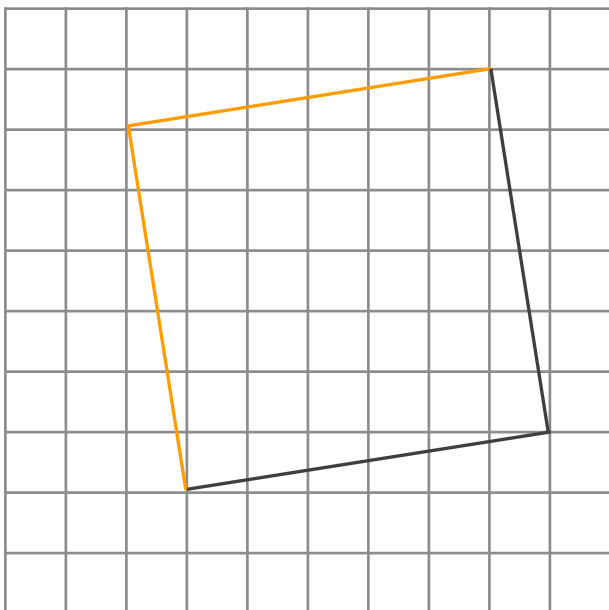
1 次の図で、垂直な直線はどれとどれですか。
また、平行な直線はどれとどれですか。



答え： 垂直… アとイ, カとイ, ウとキ, エとキ
 平行… アとカ, ウとエ

2 次の図の続きをかいて、正方形を完成させましょう。

①



②

