



垂直、平行と  
四角形 19

◎ 対角線の性質と  
四角形の種類



日にち： 月 日

名まえ \_\_\_\_\_

1 次のせいしつがいつでもあてはまる四角形を、下からすべて選んで㊦から㊦で  
答えましょう。

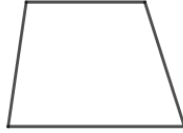
㊦長方形



㊦平行四辺形



㊦台形



㊦正方形



㊦ひし形



① 向かい合った角の大きさが等しい。

( )


② 向かい合った1組の辺だけが平行。

( )

③ 2本の対角線の長さが等しい。

( )

2 対角線の長さが2cmと10cmのひし形をかきましょう。





垂直, 平行と  
四角形 19

◎ 対角線の性質と  
四角形の種類



日にち： 月 日

名まえ \_\_\_\_\_

1 次のせいしつがいつでもあてはまる四角形を、下からすべて選んで㉠から㉤で  
答えましょう。

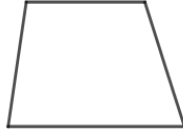
㉠長方形



㉡平行四辺形



㉢台形



㉣正方形



㉤ひし形



① 向かい合った角の大きさが等しい。

( ㉠, ㉡, ㉣, ㉤ )

② 向かい合った1組の辺だけが平行。

( ㉢ )

③ 2本の対角線の長さが等しい。

( ㉠, ㉣ )

2 対角線の長さが2cmと10cmのひし形をかきましょう。

