



小数のたし算とひき算4

◎計算のくふうと小数のたし算



日にち： 月 日

名まえ _____

1 工夫して計算しましょう。

$$\textcircled{1} \quad 5.7 + 1.2 + 6.3 =$$

$$=$$

$$=$$


$$\textcircled{2} \quad 6.73 + 2.5 + 1.27 =$$

$$=$$


$$=$$

2 次の計算をしましょう。


① $29 + 3.21$




② $7.45 + 8.55$



③ $0.79 + 1.548$



④ $48.23 + 6.77$





小数のたし算とひき算4

◎計算のくふうと小数のたし算



日にち： 月 日

名まえ _____

1 工夫して計算しましょう。

$$\begin{aligned} \textcircled{1} \quad 5.7 + 1.2 + 6.3 &= 5.7 + 6.3 + 1.2 \\ &= 12 + 1.2 \\ &= 13.2 \end{aligned}$$

$$\begin{aligned} \textcircled{2} \quad 6.73 + 2.5 + 1.27 &= 6.73 + 1.27 + 2.5 \\ &= 8 + 2.5 \\ &= 10.5 \end{aligned}$$

2 次の計算をしましょう。

① $29 + 3.21$

	2	9	
+		3	2
<hr/>			
	3	2	2

② $7.45 + 8.55$

	7	4	5
+	8	5	5
<hr/>			
	1	6	0 0

③ $0.79 + 1.548$

	0	7	9	
+	1	5	4	8
<hr/>				
	2	3	3	8

④ $48.23 + 6.77$

	4	8	2	3
+		6	7	7
<hr/>				
	5	5	0 0	