



垂直, 平行と
四角形 6

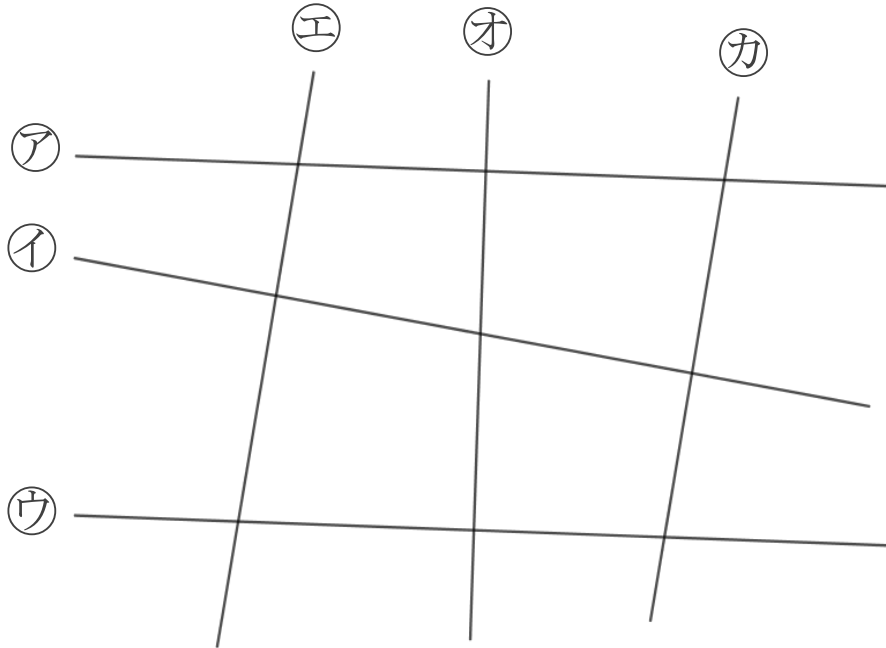
12

● 平行な直線探し

日にち： 月 日

名まえ _____

1 次の図で、平行な直線は、どれとどれですか。



答え： _____

2 2まいの三角じょうぎを使って、次の点を通り、直線に垂直な直線をひきましょう。

①

ア

A

②

B

イ





垂直, 平行と 四角形 6

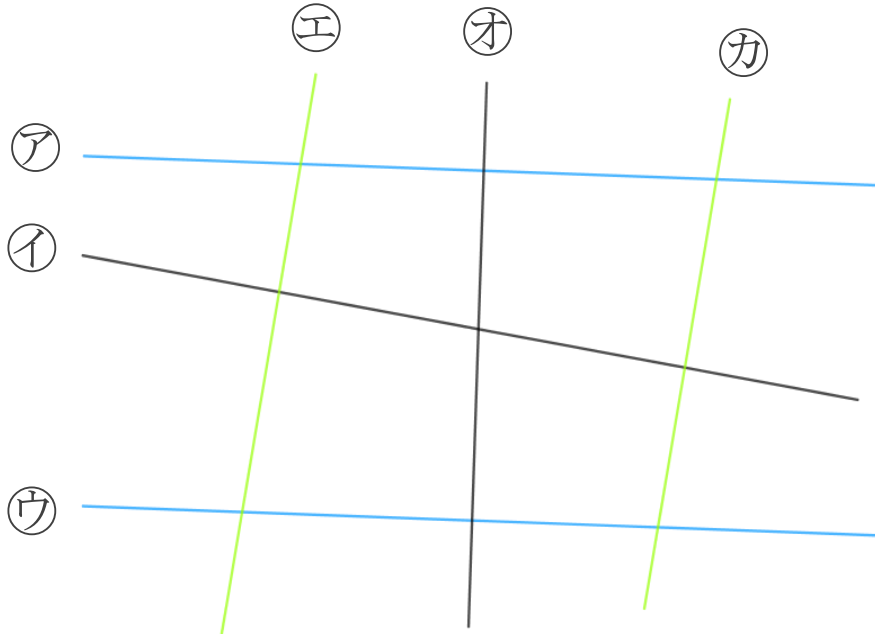
12

● 平行な直線探し

日にち： 月 日

名まえ _____

1 次の図で、平行な直線は、どれとどれですか。

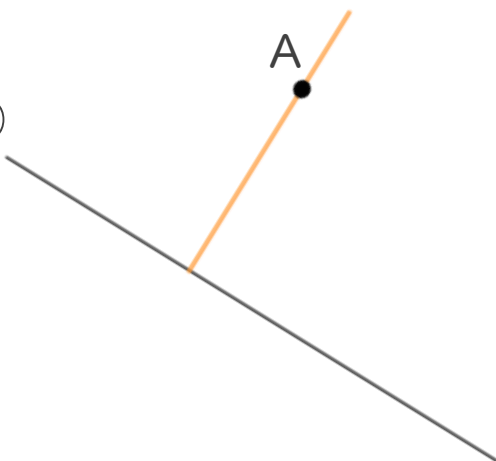


答え： **アとウ** , **エとカ**

2 2まいの三角じょうぎを使って、次の点を通り、直線に垂直な直線をひきましょう。

①

ア



②

イ

