

# 小数の表し方5

◎ 数直線の読みとり



日にち： 月 日

名まえ \_\_\_\_\_

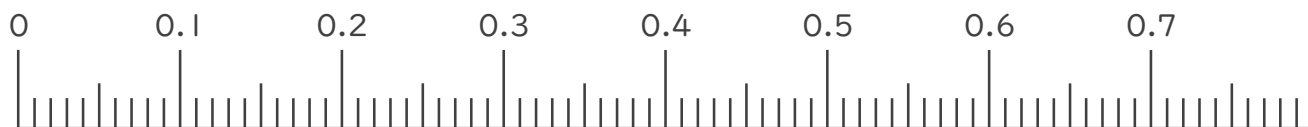
1. 次の小数を表すめもりに ↑ を書きましょう。

① 0.04

② 0.14

③ 0.55

④ 0.63



⑤ 0.92

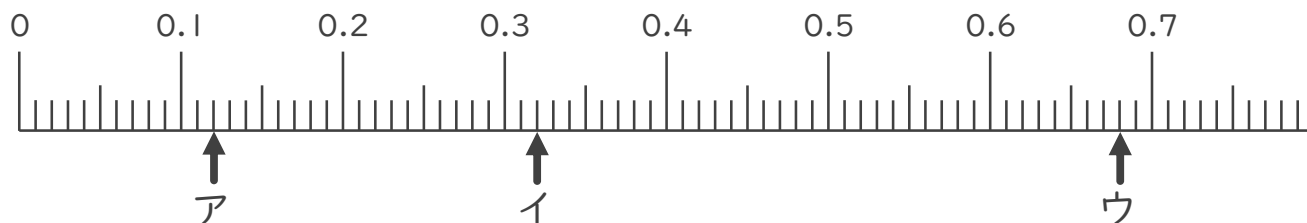
⑥ 1.01

⑦ 1.38

⑧ 1.62



2. 次の数直線でア～オが表す数を答えましょう。



ア \_\_\_\_\_

イ \_\_\_\_\_

ウ \_\_\_\_\_





# 小数の表し方5

◎ 数直線の読みとり

12

日にち： 月 日

名まえ \_\_\_\_\_

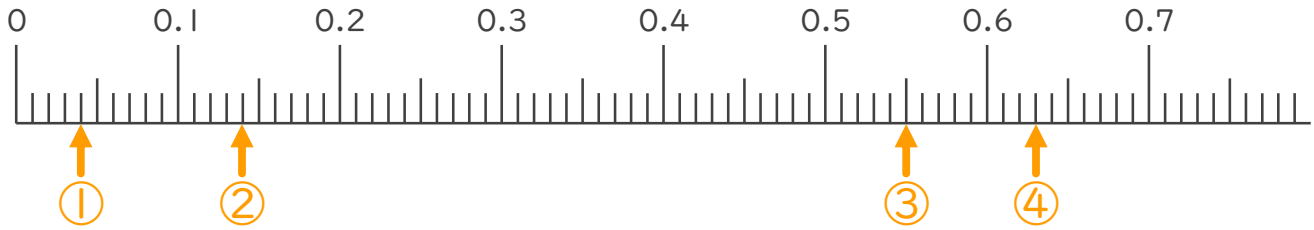
1. 次の小数を表すめもりに ↑ を書きましょう。

① 0.04

② 0.14

③ 0.55

④ 0.63

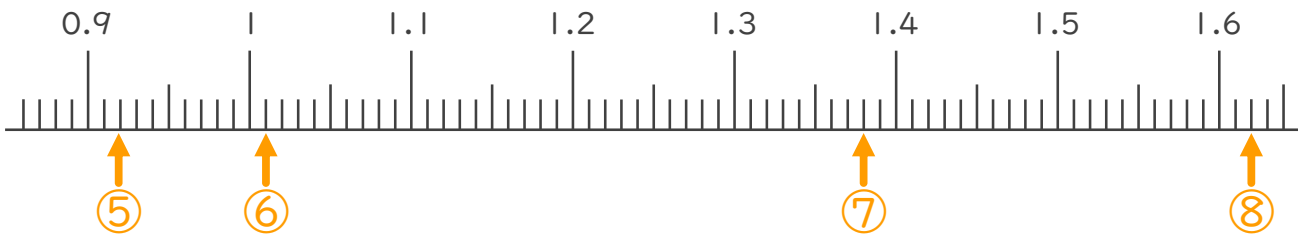


⑤ 0.92

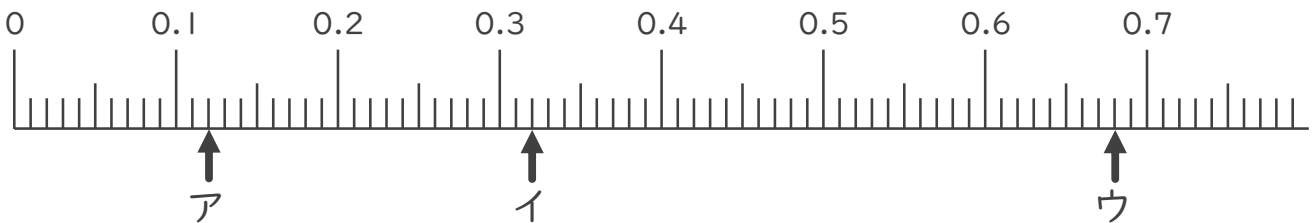
⑥ 1.01

⑦ 1.38

⑧ 1.62



2. 次の数直線でア～オが表す数を答えましょう。



ア 0.12

イ 0.32

ウ 0.68

