



小数の表し方5

◎ 数直線の読みとり

12

日にち： 月 日

名まえ _____

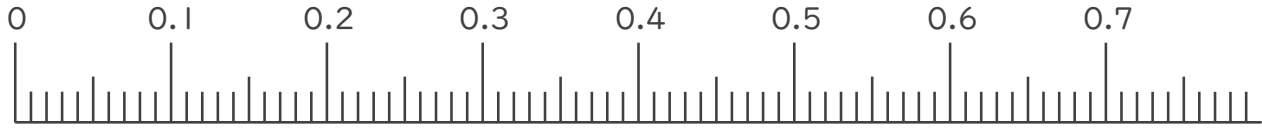
1. 次の小数を表すめもりに ↑ を書きましょう。

① 0.04

② 0.14

③ 0.55

④ 0.63

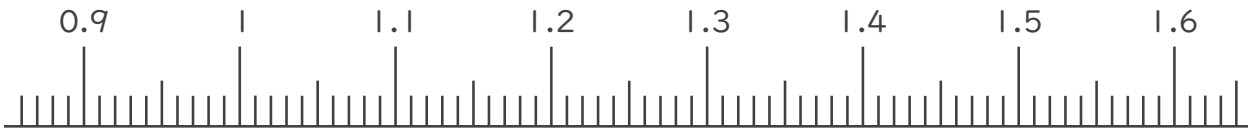


⑤ 0.92

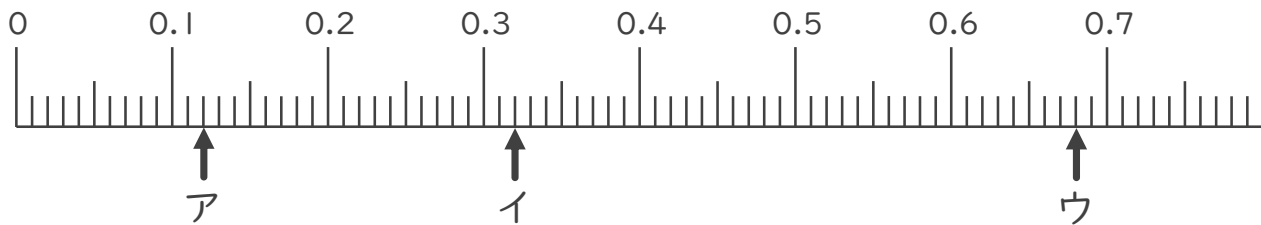
⑥ 1.01

⑦ 1.38

⑧ 1.62



2. 次の数直線でア～ウが表す数を答えましょう。



ア _____

イ _____

ウ _____





小数の表し方5

◎ 数直線の読みとり

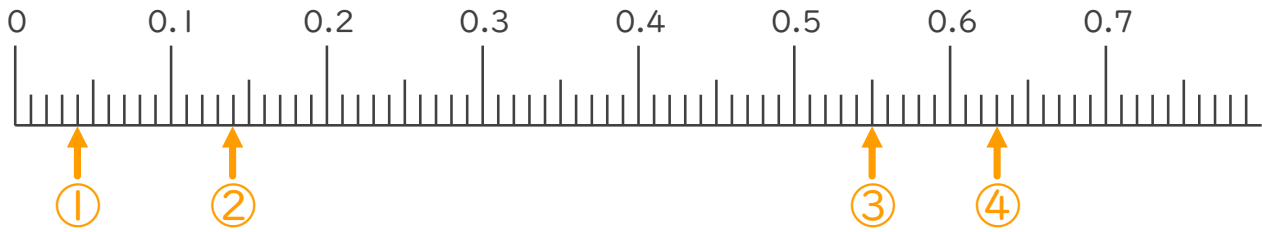
12

日にち： 月 日

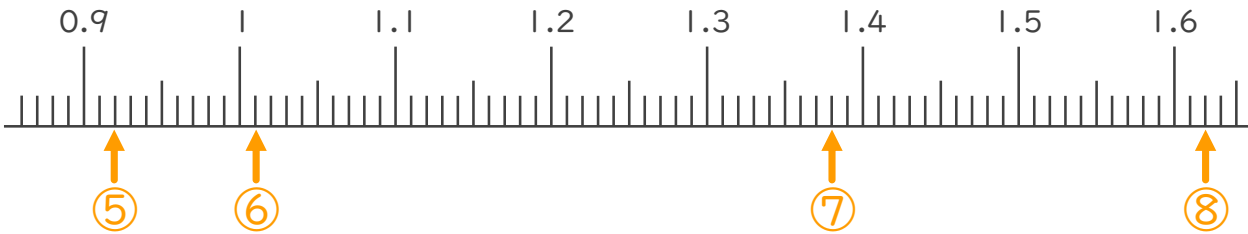
名まえ _____

1. 次の小数を表すめもりに ↑ を書きましょう。

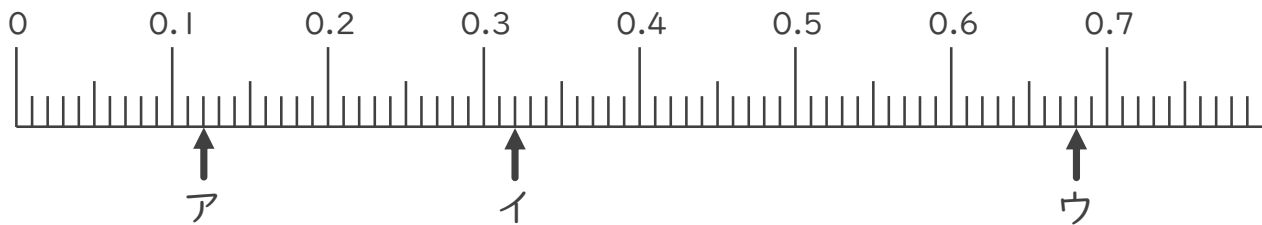
- ① 0.04 ② 0.14 ③ 0.55 ④ 0.63



- ⑤ 0.92 ⑥ 1.01 ⑦ 1.38 ⑧ 1.62



2. 次の数直線でア～ウが表す数を答えましょう。



ア 0.12

イ 0.32

ウ 0.68

