



# 小数の表し方8

㉞ 数直線の読みとり  
(小数第三位)



日にち：          月          日

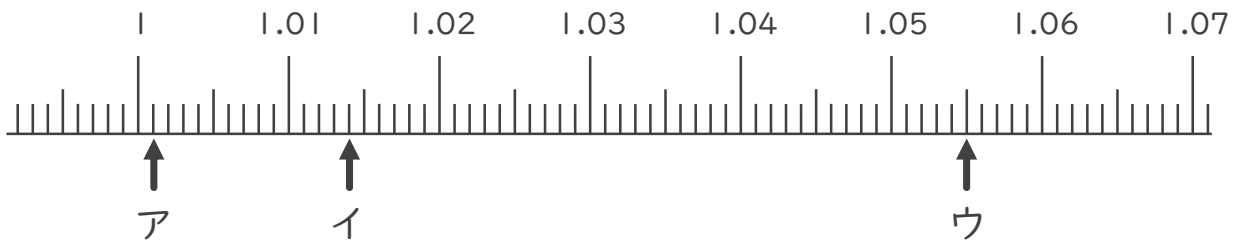
名まえ \_\_\_\_\_

1. 次の小数を表すめもりに ↑ を書きましょう。

- ① 3.051
- ② 3.065
- ③ 3.099
- ④ 3.113



2. 次の数直線でア～ウが表す数を答えましょう。



ア                                  イ                                  ウ

\_\_\_\_\_

3. 次の問いに答えましょう。

① 0.015m は 0.001m を何こ集めたかさですか？

答え \_\_\_\_\_

② 0.02m は 0.001m を何こ集めたかさですか？

答え \_\_\_\_\_



# 小数の表し方8

㉞ 数直線の読みとり  
(小数第三位)

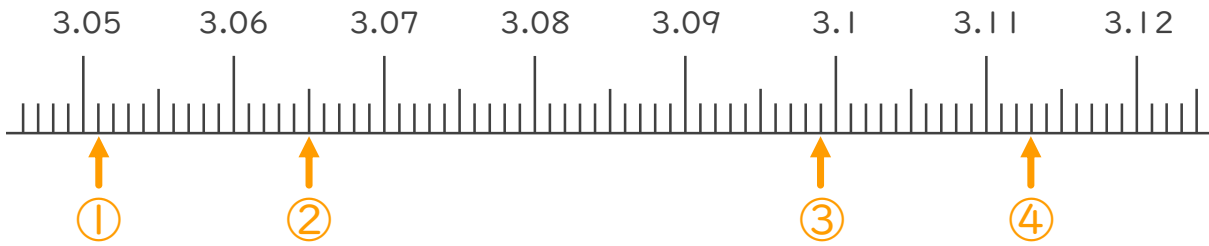


日にち： 月 日

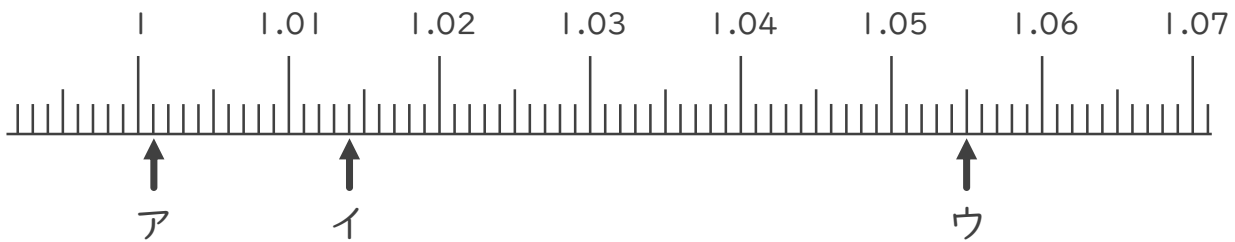
名まえ

1. 次の小数を表すめもりに ↑ を書きましょう。

- ① 3.051      ② 3.065      ③ 3.099      ④ 3.113



2. 次の数直線でア～ウが表す数を答えましょう。



ア 1.001      イ 1.014      ウ 1.055

3. 次の問いに答えましょう。

① 0.015m は 0.001m を何こ集めたかさですか？

答え 15こ

② 0.02m は 0.001m を何こ集めたかさですか？

答え 20こ

