



角の大きさ 00

● 時計回りの角の作図




日にち： 月 日

名まえ _____

・ 点アを頂点として、次の大きさの角をかきましょう。

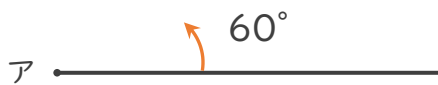
① 90°

② 125°



③ 60°

④ 100°





角の大きさ 00

● 時計回りの角の作図



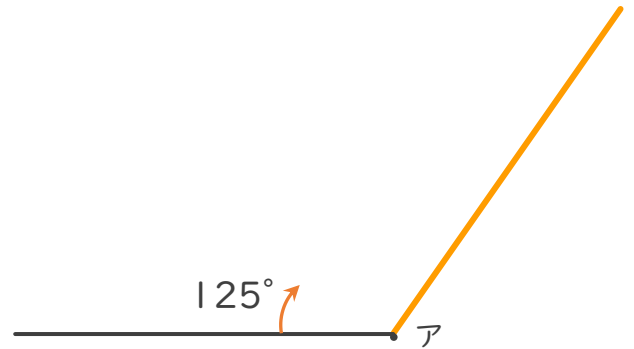
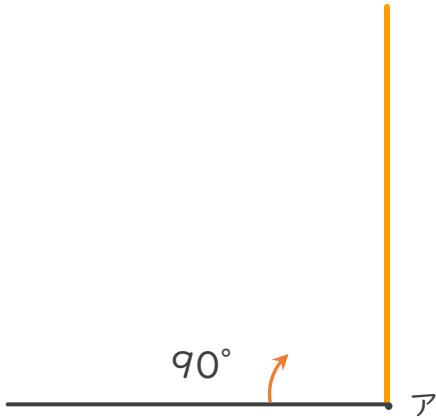
日にち： 月 日

名まえ _____

・ 点アを頂点として、次の大きさの角をかきましょう。

① 90°

② 125°



③ 60°

④ 100°

