

小数の表し方4

12

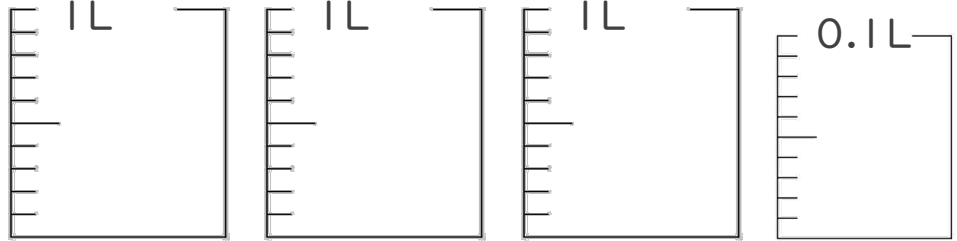
◎ 水のかさをぬる

日にち： 月 日

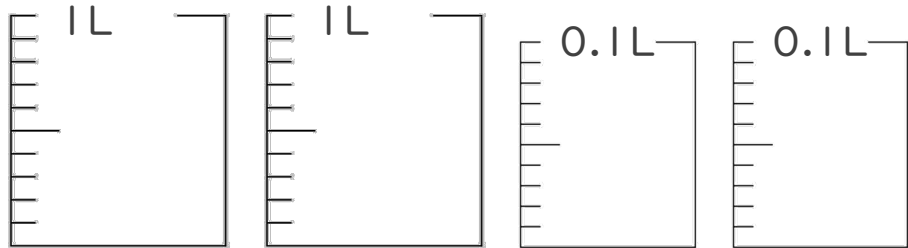
名まえ _____

1. 次の水のかさの分だけ色をぬりましょう。

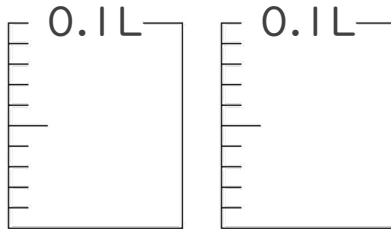
① 3.07 L



② 2.14 L

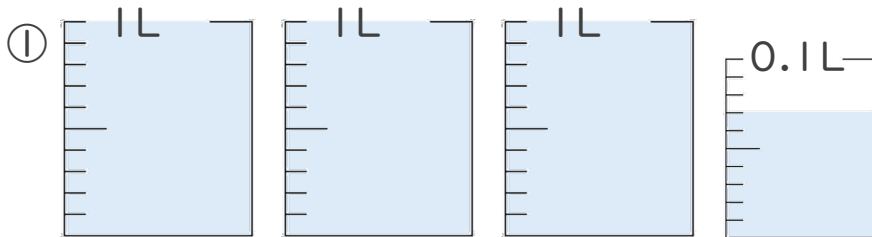


③ 0.16 L

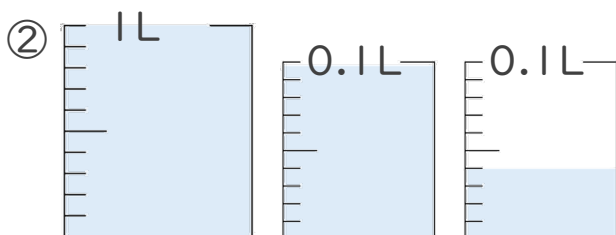


2. 1L入る水さしと、0.1L入る水さしがあります。

水さしに入っている水のかさを、L単位で表しましょう。




答え _____



答え _____





小数の表し方4

12

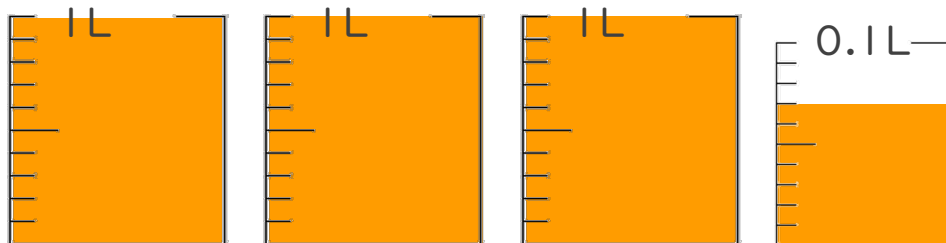
◎ 水のかさをぬる

日にち： 月 日

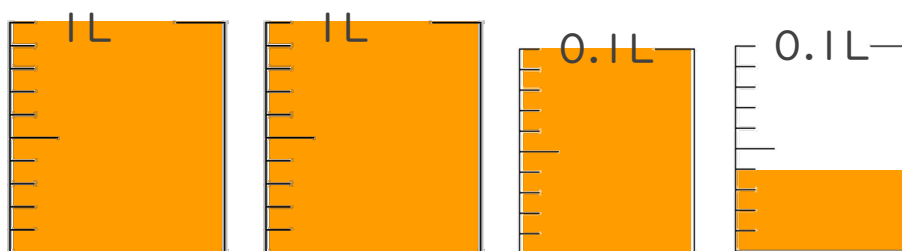
名まえ _____

1. 次の水のかさの分だけ色をぬりましょう。

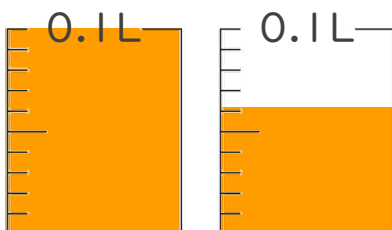
① 3.07 L



② 2.14 L

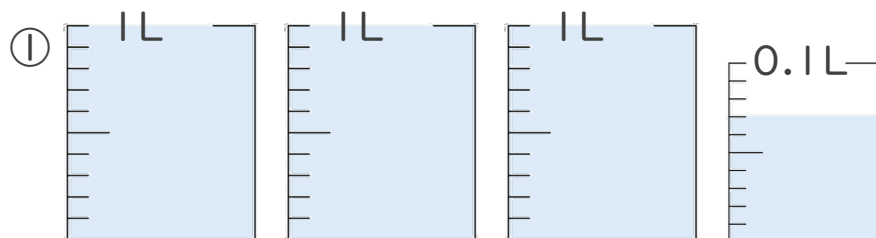


③ 0.16 L

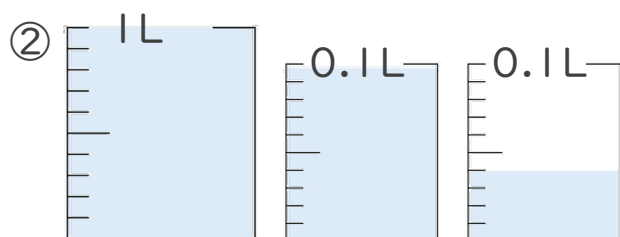


2. 1L入る水さしと、0.1L入る水さしがあります。

水さしに入っている水のかさを、L単位で表しましょう。



答え **3.07L**



答え **1.14L**

⑫ 仕上げ 答え



すらすらぷりん