



小数の表し方4

◎ 水のかさをぬる

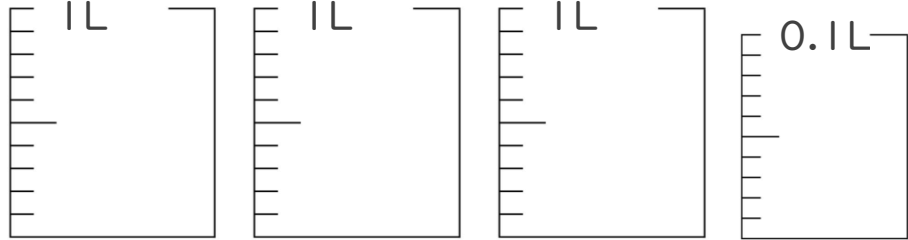
12

日にち： 月 日

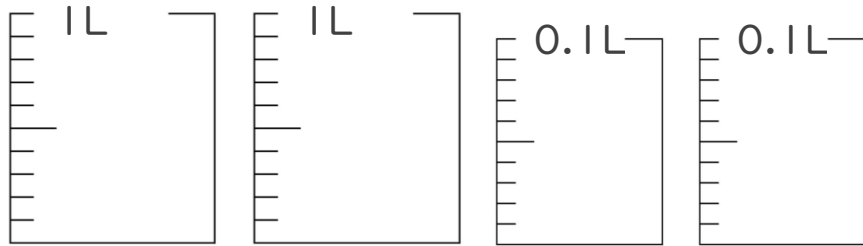
名まえ

1. 次の水のかさの分だけ色をぬりましょう。

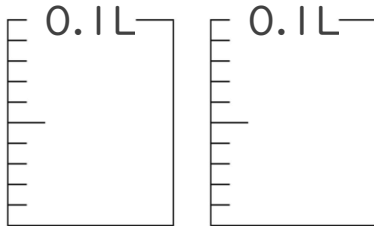
① 3.07 L



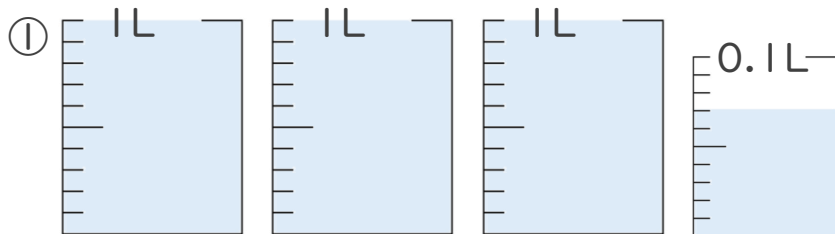
② 2.14 L



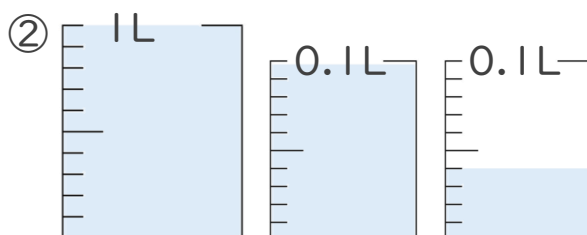
③ 0.16 L



2. 1 L 入る水さしと、0.1 L 入る水さしがあります。
水さしに入っている水のかさを、L 単位で表しましょう。



答え



答え

⑫ 仕上げ





小数の表し方4

◎ 水のかさをぬる

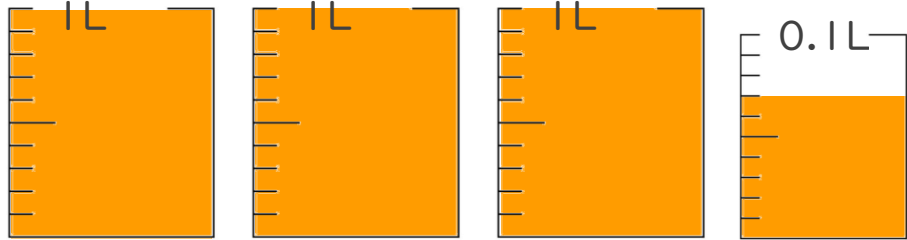
12

日にち： 月 日

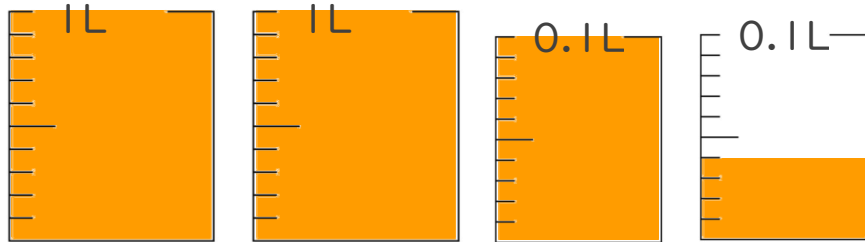
名まえ

1. 次の水のかさの分だけ色をぬりましょう。

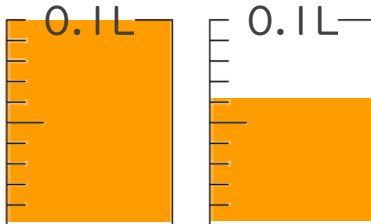
① 3.07 L



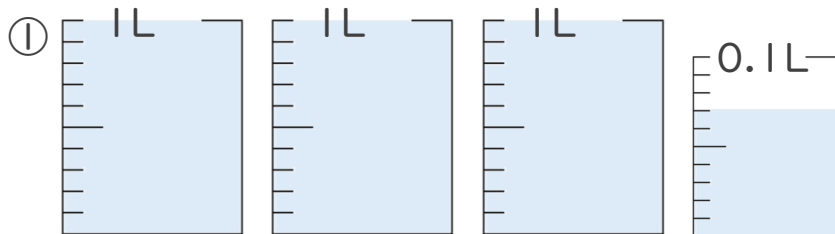
② 2.14 L



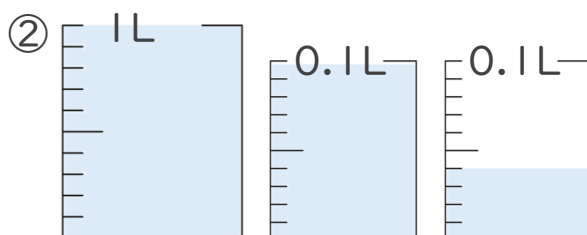
③ 0.16 L



2. 1L入る水さしと、0.1L入る水さしがあります。
水さしに入っている水のかさを、L単位で表しましょう。



答え 3.07L



答え 1.14L

⑫ 仕上げ 答え

