

分数 (分数の表し方) 2

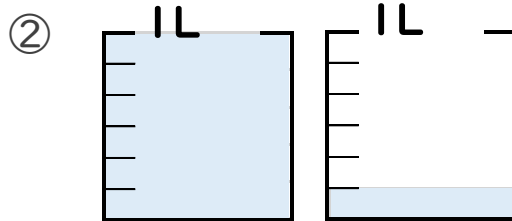
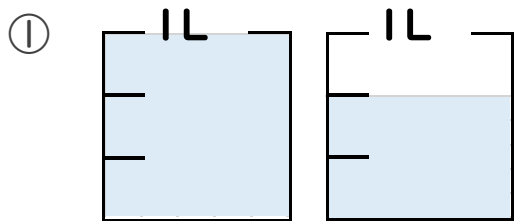
● 水のかさを帯分数と仮分数で表す



日にち： 月 日

名まえ _____

1 水のかさは何Lですか。仮分数と帯分数の両方で表しましょう。



答え 仮分数…

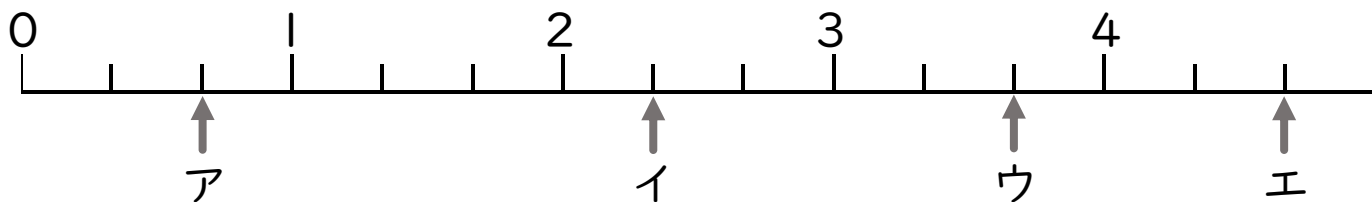
答え 仮分数…

帯分数…

帯分数…

2 ア～オのめもりが表す分数はいくつですか。

1より大きい分数は、仮分数と帯分数の両方で表しましょう。




答え ア

イ

ウ

エ



分数 (分数の表し方) 2

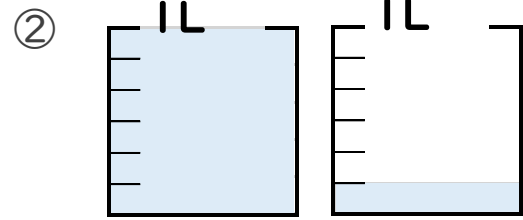
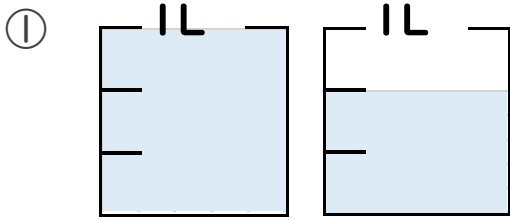
● 水のかさを帯分数と仮分数で表す

12

日にち： 月 日

名まえ

1 水のかさは何Lですか。仮分数と帯分数の両方で表しましょう。



答え 仮分数… $\frac{5}{3}$ L

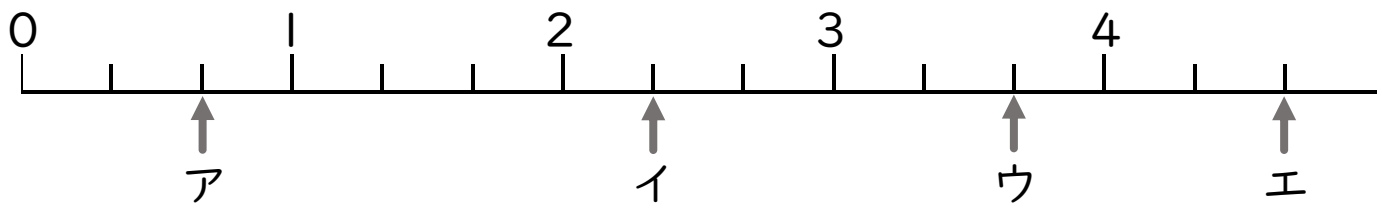
答え 仮分数… $\frac{7}{6}$ L

帯分数… $1\frac{2}{3}$ L

帯分数… $1\frac{1}{6}$ L

2 ア～オのめもりが表す分数はいくつですか。

1より大きい分数は、仮分数と帯分数の両方で表しましょう。



答え ア $\frac{2}{3}$

イ $\frac{7}{3}$, $2\frac{1}{3}$

ウ $\frac{11}{3}$, $3\frac{2}{3}$

エ $\frac{14}{3}$, $4\frac{2}{3}$