



# 分数 (分数の表し方) !

● 真分数・帯分数・仮分数とは

12

日にち： 月 日

名まえ

1 次の分数は、真分数、仮分数、帯分数のどれですか。

①  $\frac{2}{2}$

②  $\frac{9}{8}$

③  $\frac{10}{3}$

④  $4\frac{1}{6}$

⑤  $\frac{5}{6}$

⑥  $\frac{5}{7}$

答え： ①

②

③

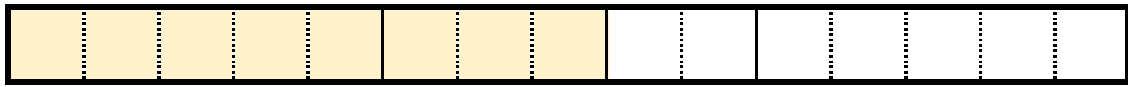
④

⑤

⑥

2 色をぬった部分の長さを、仮分数と帯分数の両方で表しましょう


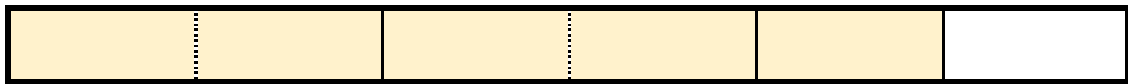
①



答え： 仮分数…

帯分数…

②



答え： 仮分数…

帯分数…





# 分数 (分数の表し方) !

● 真分数・帯分数・仮分数とは

12

日にち： 月 日

名まえ \_\_\_\_\_

1 次の分数は、真分数、仮分数、帯分数のどれですか。

①  $\frac{2}{2}$

②  $\frac{9}{8}$

③  $\frac{10}{3}$

④  $4\frac{1}{6}$

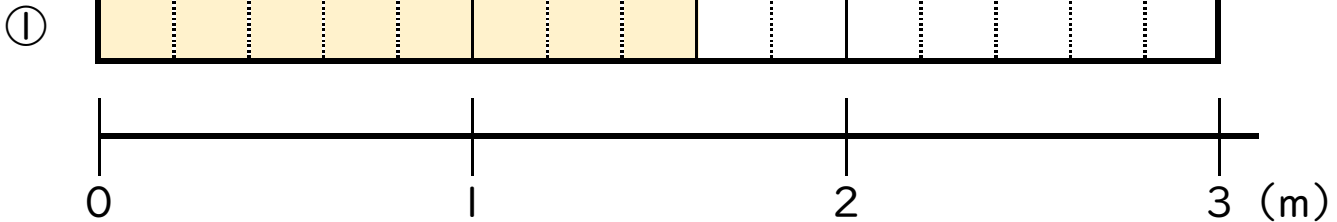
⑤  $\frac{5}{6}$

⑥  $\frac{5}{7}$

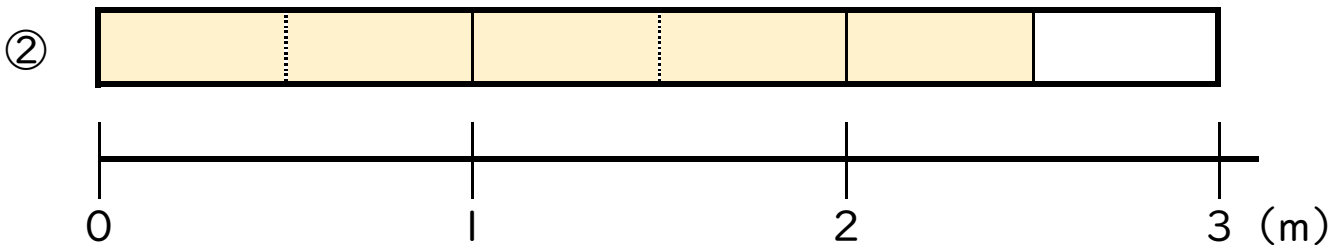
答え： ① 仮分数      ② 仮分数      ③ 仮分数

④ 帯分数      ⑤ 真分数      ⑥ 真分数

2 色をぬった部分の長さを、仮分数と帯分数の両方で表しましょう



答え： 仮分数…  $\frac{8}{5}$       帯分数…  $1\frac{3}{5}$



答え： 仮分数…  $\frac{5}{2}$       帯分数…  $2\frac{1}{2}$