



変わり方調べ ①



● 長方形のたてと
横の長さの関係



日にち： 月 日

名まえ _____

- ・ 16まいのカードを兄と弟で分けます。



- ① 兄と弟のカードのまい数を、下の表にまとめましょう。

兄のカード (まい)	1	2	3	4	5	6	7	...
弟のカード (まい)								...

- ② 兄のカードのまい数が1まいずつふえると、弟のカードのまい数はどのように変わりますか。

()

- ③ 兄のカードのまい数を□まい、弟のカードのまい数を○まいとして、□と○の関係を式に表しましょう。

()



変わり方調べ ①



● 長方形のたてと
横の長さの関係



日にち： 月 日

名まえ _____

- ・ 16まいのカードを兄と弟で分けます。



- ① 兄と弟のカードのまい数を、下の表にまとめましょう。

兄のカード (まい)	1	2	3	4	5	6	7	...
弟のカード (まい)	15	14	13	12	11	10	9	...

- ② 兄のカードのまい数が1まいずつふえると、弟のカードのまい数はどのように変わりますか。

〔 1まいずつへる。 〕

- ③ 兄のカードのまい数を□まい、弟のカードのまい数を○まいとして、□と○の関係を式に表しましょう。

〔 $\square + \bigcirc = 16$ 〕

