



直方体や立方体 10

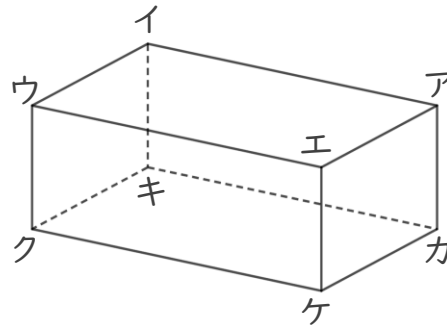
● 面と面の関係
(垂直と平行)

12

日にち： 月 日

名まえ

1 面と面の関係について調べましょう。



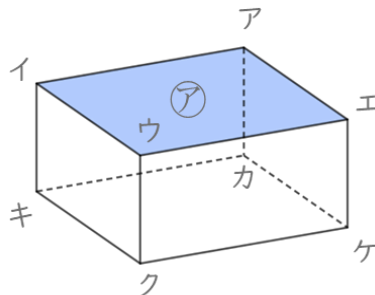
① 面アエケカと垂直な面を全部書きましょう。

答え

② 面イウクキと平行な面を書きましょう。

答え

2 辺と面の関係について調べましょう。



① 面アと垂直な辺を全部書きましょう。

答え

② 面アエケカと垂直な辺を全部書きましょう。

答え





直方体や立方体 10

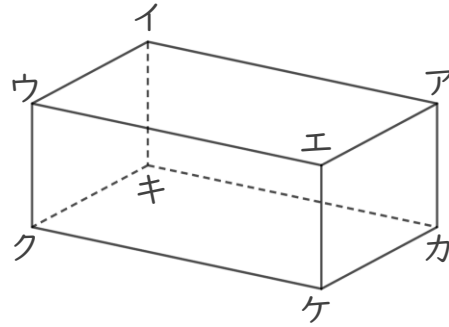
● 面と面の関係
(垂直と平行)

12

日にち： 月 日

名まえ

1 面と面の関係について調べましょう。



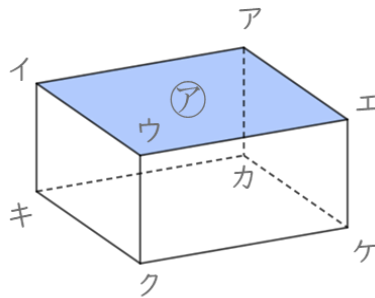
① 面アエケカと垂直な面を全部書きましょう。

答え 面アイウエ, 面エウクケ, 面カキクケ, 面アイキカ

② 面イウクキと平行な面を書きましょう。

答え 面アエケカ

2 辺と面の関係について調べましょう。



① 面アと垂直な辺を全部書きましょう。

答え 辺イキ, 辺ウク, 辺エケ, 辺アカ

② 面アエケカと垂直な辺を全部書きましょう。

答え 辺アイ, 辺エウ, 辺ケク, 辺カキ

