



# 小数の表し方3

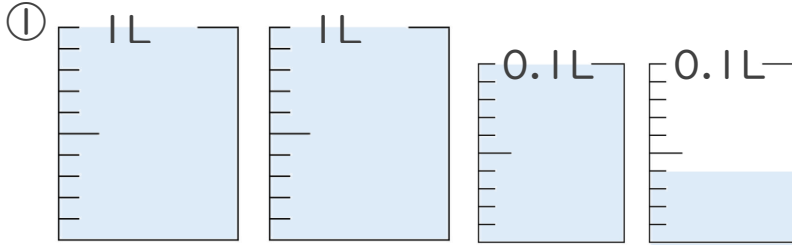
# 12

◎ 0.01を何こ？

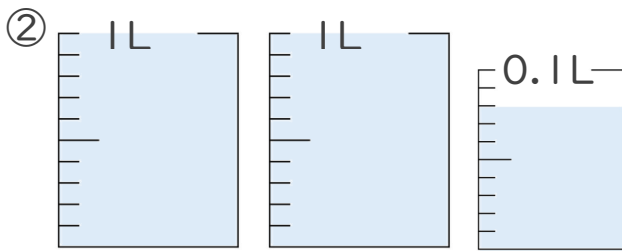
日にち：        月        日

名まえ \_\_\_\_\_

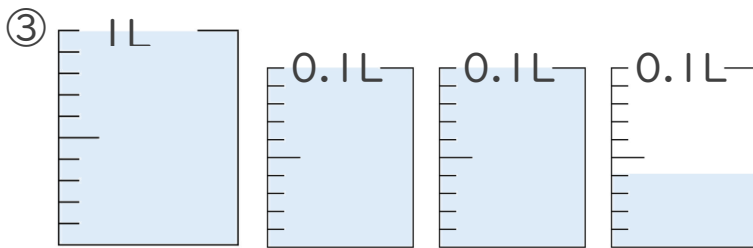
1. 1L入る水さしと、0.1L入る水さしがあります。  
水さしに入っている水のかさを、L単位で表しましょう。



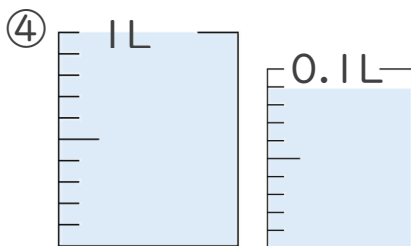
答え \_\_\_\_\_



答え \_\_\_\_\_



答え \_\_\_\_\_



答え \_\_\_\_\_

2. 次の問いに答えましょう。

① 0.13 Lは 0.01L を何こ集めたかさですか？

答え \_\_\_\_\_

② 0.2 Lは 0.01L を何こ集めたかさですか？

答え \_\_\_\_\_





# 小数の表し方3

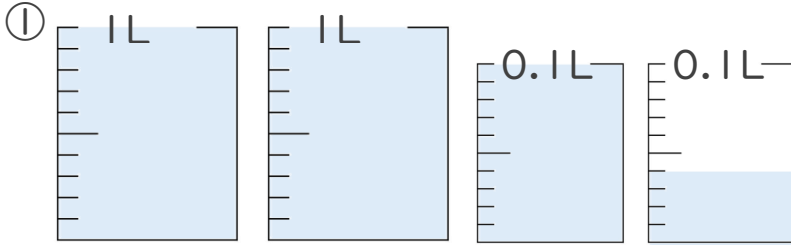
# 12

◎ 0.01を何こ？

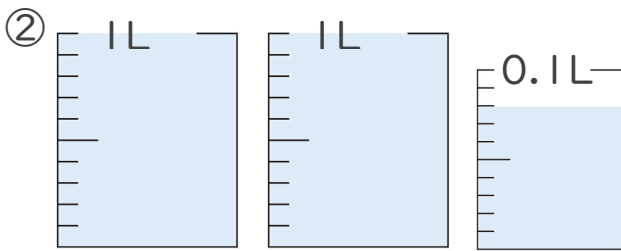
日にち：      月      日

名まえ \_\_\_\_\_

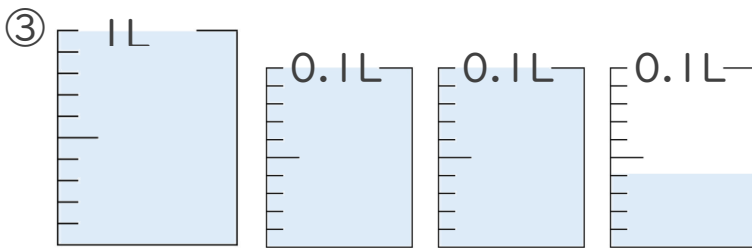
1. 1L入る水さしと、0.1L入る水さしがあります。  
水さしに入っている水のかさを、L単位で表しましょう。



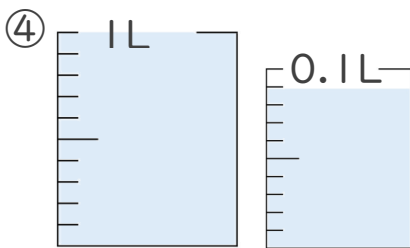
答え 2.14L



答え 2.08L



答え 1.24L



答え 1.09L

2. 次の問いに答えましょう。

① 0.13 Lは 0.01L を何こ集めたかさですか？

答え 13こ

② 0.2 Lは 0.01L を何こ集めたかさですか？

答え 20こ

