



小数のしくみ7

© 6より0.03小さい数



日にち： 月 日

名まえ _____

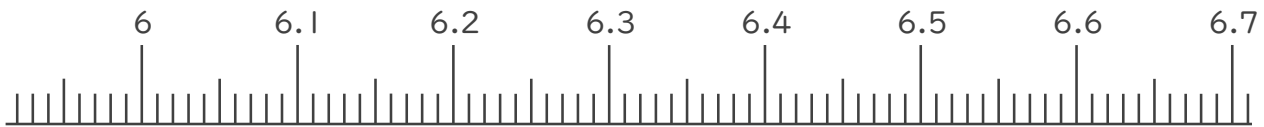
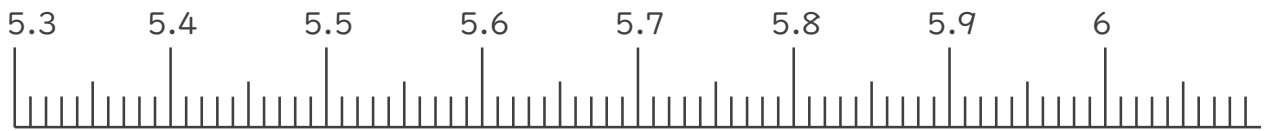
1. 下の数直線で、ア～エの数を表すめもりに ↑ をかきましょう。
また、 ↑ の下にア～エの記号とその数をかきましょう。

ア 5.5より0.07小さい数

イ 5.9より0.06大きい数

ウ 6.1より0.02小さい数

エ 6.5より0.07大きい数



2. 次の数はいくつですか。

① 7と0.26をあわせた数

答え _____

② 1を1こ、0.1を5こ、0.01を2こあわせた数

答え _____

③ 0.01を96こ集めた数

答え _____





小数のしくみ7

◎ 6より0.03小さい数

12

日にち： 月 日

名まえ

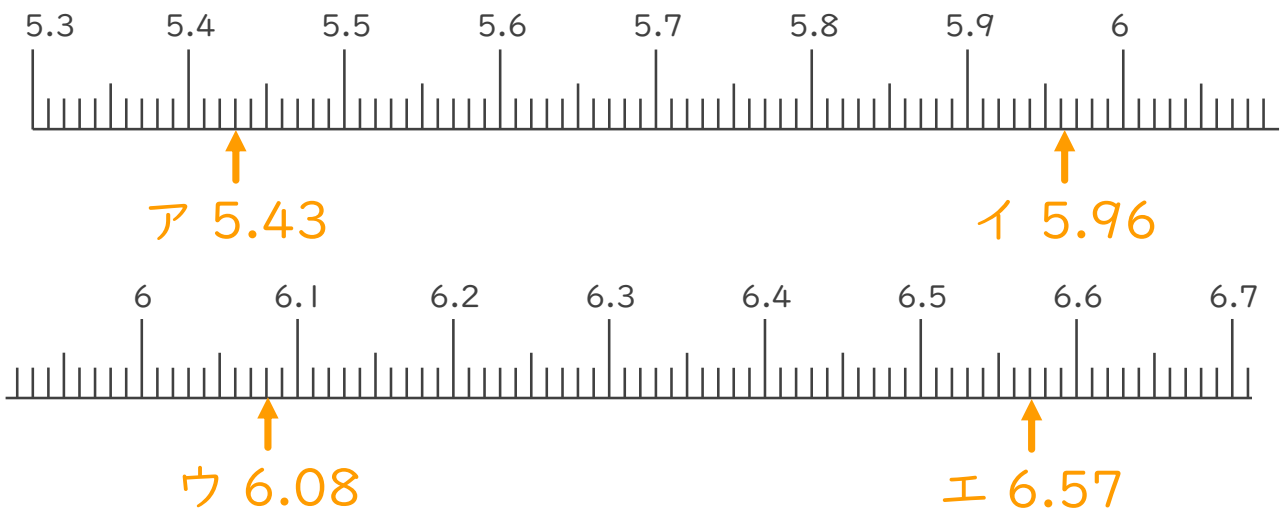
1. 下の数直線で、ア～エの数を表すめもりに ↑ をかきましょう。
また、 ↑ の下にア～エの記号とその数をかきましょう。

ア 5.5より0.07小さい数

イ 5.9より0.06大きい数

ウ 6.1より0.02小さい数

エ 6.5より0.07大きい数



2. 次の数はいくつですか。

① 7と0.26をあわせた数

答え 7.26

② 1を1こ、0.1を5こ、0.01を2こあわせた数

答え 1.52

③ 0.01を96こ集めた数

答え 0.96

