



# 小数のわり算21

●わり進み  
(帯小数を1桁の整数でわる)



日にち：            月            日


名まえ \_\_\_\_\_

・ 次の計算をわりきれるまでしましょう。

①  $17 \div 4$




②  $4.2 \div 4$



③  $5.4 \div 5$




④  $63 \div 18$



⑤  $4.8 \div 5$



⑥  $6.3 \div 6$





# 小数のわり算21

わり進み  
(帯小数を1桁の整数でわる)

13

日にち： 月 日

名まえ

・ 次の計算をわりきれぬまでしましょう。

①  $17 \div 4$

		4	.	2	5	
4	)	1	7	.	0	0
		1	6			
		1	0			
			8			
			2	0		
			2	0		
				0		

②  $4.2 \div 4$

		1	.	0	5
4	)	4	.	2	0
		4			
			2	0	
			2	0	
				0	

③  $5.4 \div 5$

		1	.	0	8
5	)	5	.	4	0
		5			
			4	0	
			4	0	
				0	

④  $63 \div 18$

			3	.	5	
1	8	)	6	3	.	0
			5	4		
			9	0		
			9	0		
				0		

⑤  $4.8 \div 5$

			0	.	9	6
5	)	4	.	8	0	
		4	5			
			3	0		
			3	0		
				0		

⑥  $6.3 \div 6$

			1	.	0	5
6	)	6	.	3	0	
		6				
			3	0		
			3	0		
				0		

