



小数のわり算 20

●わり進み
(整数を2けたの整数でわる)



日にち： 月 日


名まえ _____

・ 次の計算をわりきれるまでしましょう。


① $66 \div 15$



② $3 \div 75$



③ $3 \div 4$




④ $69 \div 15$



⑤ $95 \div 25$



⑥ $34 \div 8$





小数のわり算 20

●わり進み
(整数を2けたの整数でわる)

13

日にち： 月 日

名まえ _____

・ 次の計算をわりきれぬまでしましょう。

① $66 \div 15$

			4	.	4
1	5)	6	6	.0
			6	0	0
			6	0	
			6	0	
				0	

② $3 \div 75$

			0	.	0	4
7	5)	3	0	0	
			3	0	0	
					0	

③ $3 \div 4$

			0	.	7	5
4)	3	0	0		
			2	8		
				2	0	
				2	0	
					0	

④ $69 \div 15$

			4	.	6
1	5)	6	9	.0
			6	0	
			9	0	
			9	0	
				0	

⑤ $95 \div 25$

			3	.	8
2	5)	9	5	.0
			7	5	
			2	0	0
			2	0	0
				0	

⑥ $34 \div 8$

			4	.	2	5
8)	3	4	.0	0	
			3	2		
			2	0		
			1	6		
				4	0	
				4	0	
					0	