



垂直、平行と  
四角形 12

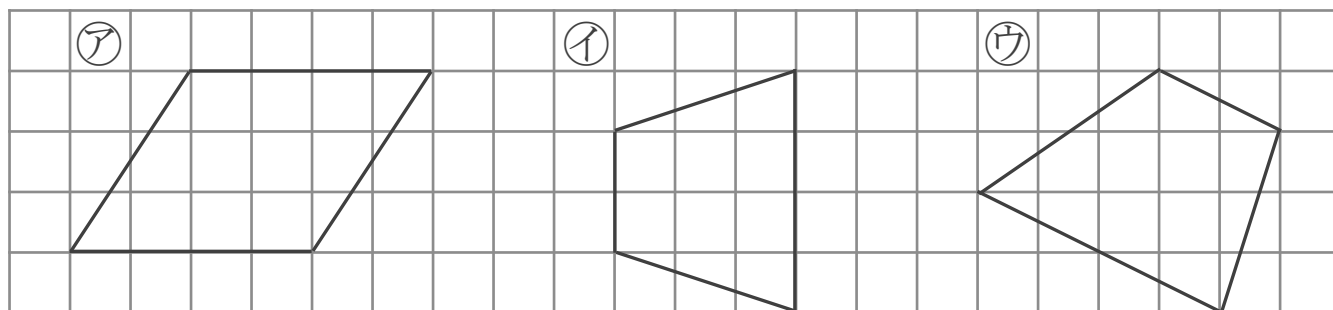
13

台形と平行四辺形

日にち： 月 日

名まえ \_\_\_\_\_

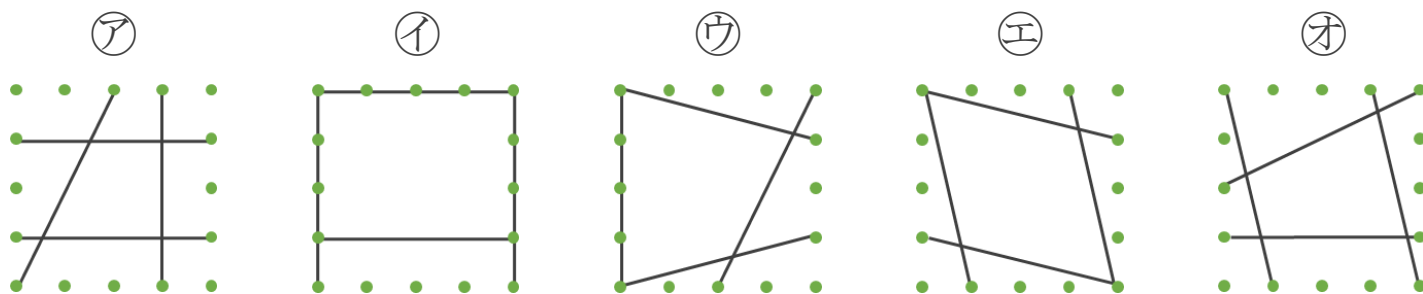
1 次の四角形を、台形と平行四辺形に分けましょう。



答え： 台形…

平行四辺形…

2 平行な直線の組の数に注目して、次の四角形を3つのなかまに分けましょう。



① 平行な直線が1組

答え： \_\_\_\_\_

② 平行な直線が2組

答え： \_\_\_\_\_

③ 平行な直線がない

答え： \_\_\_\_\_



垂直、平行と  
四角形 12

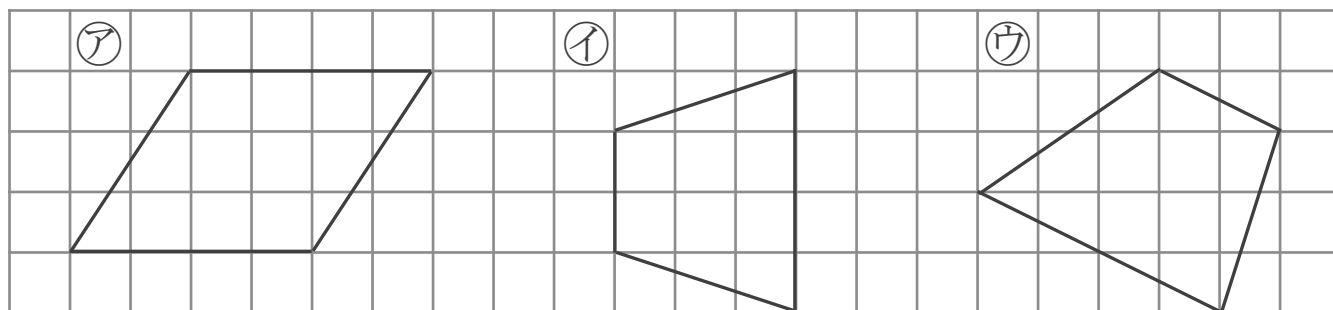
13

台形と平行四辺形

日にち： 月 日

名まえ \_\_\_\_\_

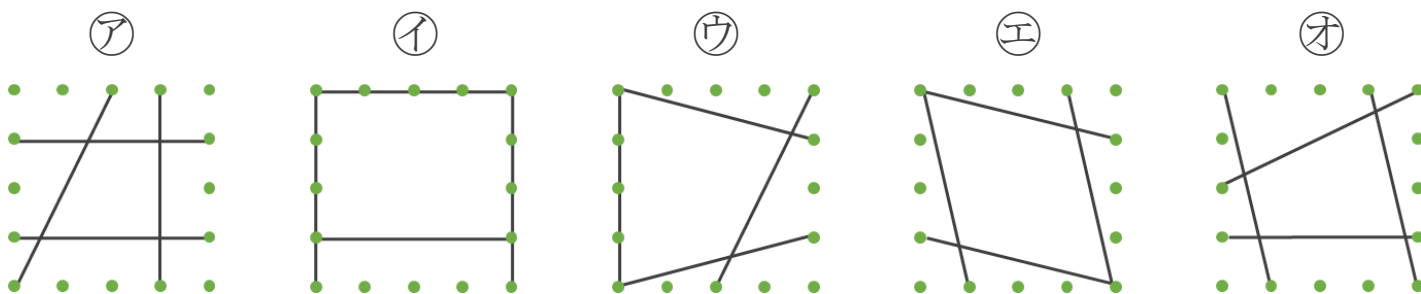
1 次の四角形を、台形と平行四辺形に分けましょう。



答え： 台形… イ, ウ

平行四辺形… ア

2 平行な直線の組の数に注目して、次の四角形を3つのなかまに分けましょう。



① 平行な直線が1組

答え： ア, オ

② 平行な直線が2組

答え： イ, エ

③ 平行な直線がない

答え： ウ