



# 小数のたし算とひき算4

◎計算のくふうと小数のたし算



日にち：            月            日

名まえ \_\_\_\_\_

1 工夫して計算しましょう。

$$\textcircled{1} \quad 4.8 + 7.3 + 1.7 =$$

$$=$$

$$=$$


$$\textcircled{2} \quad 3.19 + 5.2 + 2.81 =$$

$$=$$


$$=$$

2 次の計算をしましょう。


①  $5.29 + 7.3$




②  $8.14 + 0.66$



③  $46 + 1.382$



④  $47.15 + 6.85$





1 工夫して計算しましょう。

$$\begin{aligned} \textcircled{1} \quad 4.8 + 7.3 + 1.7 &= 7.3 + 1.7 + 4.8 \\ &= 9 + 4.8 \\ &= 13.8 \end{aligned}$$

$$\begin{aligned} \textcircled{2} \quad 3.19 + 5.2 + 2.81 &= 3.19 + 2.81 + 5.2 \\ &= 6 + 5.2 \\ &= 11.2 \end{aligned}$$

2 次の計算をしましょう。

① 5.29 + 7.3

	5	.	2	9	
+	7	.	3		
<hr/>					
	1	2	.	5	9

② 8.14 + 0.66

	8	.	1	4
+	0	.	6	6
<hr/>				
	8	.	8	0

③ 46 + 1.382

	4	6			
+		1	3	8	2
<hr/>					
	4	7	3	8	2

④ 47.15 + 6.85

	4	7	.	1	5
+		6	.	8	5
<hr/>					
	5	4	.	0	0